

Question Booklet Code

**B**

**CWT-2025**

**Paper-II**

Roll No.

Question Booklet No.

Time Allowed : 10:00 a.m. to 12:00 noon (2 Hours)  
(½ mark for each question)

Total Marks : 50  
Total Questions : 100

Before filling the OMR Answer-Sheet, the candidate must ensure that all the pages from 1-48 are printed in order in the Question Booklet and ensure that the OMR Answer-Sheet belongs to him/her only. In case of any discrepancy, immediately inform the Invigilator to replace your Question Booklet/OMR Answer-Sheet.

### IMPORTANT INSTRUCTIONS

- ◆ Do not open the Question Booklet before 10:00 a.m. in the Examination Hall.
- ◆ Read the questions carefully before marking the right answer with blue/black ballpoint pen only in the appropriate circle of the OMR Answer-Sheet, as no extra OMR Answer-Sheet will be provided for any mistake or correction.
- ◆ There is no negative marking for any wrong answer.
- ◆ In cases where candidate selects more than one option of a question, the question will not be evaluated.
- ◆ In case of use of Non-Standard OMR Answer-Sheet, the candidate must properly write his/her Roll No., Question Booklet Serial No., Question Booklet Code in the space provided in the OMR Answer-Sheet by shading and by writing in alphabet and numerical on the front page as well as on the back page. Otherwise the OMR Answer-Sheet will not be evaluated.
- ◆ Candidates will have to sign twice, once in the Photo Attendance Sheet presented by the Invigilator on duty after taking their seats in the Examination Hall, and the other, at the time of handing over their OMR Answer-Sheet to the Invigilator after the completion of the Examination. Cases where a candidate has not signed while submitting the OMR Answer-Sheet, he/she shall be treated as absent.
- ◆ Candidate should clearly write his/her Roll No. in the space provided in the Question Booklet.
- ◆ The candidate should make sure that the Question Booklet No. and corresponding Question Booklet Code is properly written/shaded in the OMR Answer-Sheet by him/her. For example, in filling up the Question Booklet Code, if the candidate gets Question Booklet Code 'A', then he/she should fill up 'A' in the box provided in the OMR Answer-Sheet and also shade the circle 'A' in the OMR Answer-Sheet.
- ◆ Candidate should do all the necessary rough work on the Question Booklet in the space provided. Rough work should not be done on the OMR Answer-Sheet or on any other paper. If any rough work or overwriting is done or whitener is used on the OMR Answer-Sheet, the OMR Answer-Sheet will not be assessed.
- ◆ In case of any discrepancy or confusion in the medium/version of the questions, the English version will be treated as the authentic version.
- ◆ No candidate will be allowed to leave the Examination Centre during the examination hours.
- ◆ Any candidate found using unfair means including carrying restricted items like mobile phone, calculator or any electronic gadget or objectionable materials, etc., which are not allowed in the examination halls/rooms shall be disqualified.



**OMR** উত্তৰপত্ৰখন পূৰ কৰাৰ আগতে পৰীক্ষাৰ্থীয়ে নিশ্চিত হৈ ল'ব যে প্ৰশ্ন পুস্তিকাৰ **1-48** লৈ সকলো পৃষ্ঠা ক্ৰম অনুসাৰে ছপা হৈ আছে আৰু নিশ্চিত কৰিব লাগিব যে **OMR** উত্তৰপত্ৰখন কেৱল তেওঁৰ বাবে। কোনো ধৰণৰ বিসঙ্গতি থাকিলে তৎক্ষণাত্ নিৰীক্ষকক অৱগত কৰি প্ৰশ্নপত্ৰখন অথবা **OMR** উত্তৰপত্ৰখন সলনি কৰি ল'ব।

### গুৰুত্বপূৰ্ণ নিৰ্দেশাৱলী

- ♦ পুৱা **10:00** বজাৰ আগতে প্ৰশ্নকাকতখন পৰীক্ষা কক্ষত নুখুলিব।
- ♦ **OMR** উত্তৰপত্ৰৰ যথাযথ বৃত্তটোত নীলা/ক'লা বলপইন্ট পেনেৰে শুদ্ধ উত্তৰটো চিহ্নিত কৰাৰ আগতে প্ৰশ্নটো সাৱধানে পঢ়ি লওক, কাৰণ ভুল হ'লে বা শুদ্ধ কৰিবলৈ কোনো অতিৰিক্ত **OMR** উত্তৰপত্ৰ দিয়া নহ'ব।
- ♦ ভুল উত্তৰৰ বাবে কোনো ঋণাত্মক নম্বৰ নাথাকিব।
- ♦ যদিহে কোনো পৰীক্ষাৰ্থীয়ে এটা প্ৰশ্নৰ উত্তৰ হিচাপে এটাতকৈ অধিক বিকল্প নিৰ্বাচন কৰে, তেনে ক্ষেত্ৰত প্ৰশ্নটোৰ মূল্যায়ন কৰা নহ'ব।
- ♦ **Non-Standard OMR** উত্তৰপত্ৰ ব্যৱহাৰৰ ক্ষেত্ৰত পৰীক্ষাৰ্থীয়ে অনিবাৰ্যভাৱে তেওঁলোকৰ বোল নম্বৰ, প্ৰশ্নকাকতৰ ক্ৰমিক নম্বৰ, প্ৰশ্নকাকতৰ ক'ডটো **OMR** উত্তৰপত্ৰৰ নিৰ্দিষ্ট ঠাইত ক'লা কৰিব লাগিব আৰু সমুখ পৃষ্ঠা আৰু পাছৰ পৃষ্ঠাত এটা বৰ্ণমালা আৰু সংখ্যাসূচক লিখি **OMR** উত্তৰপত্ৰখন সঠিকভাৱে পূৰণ কৰিব লাগিব। অন্যথা **OMR** উত্তৰপত্ৰৰ মূল্যায়ন কৰা নহ'ব।
- ♦ পৰীক্ষাৰ্থীসকলে নিৰীক্ষকে দিয়া ফটোযুক্ত উপস্থিতিপত্ৰত দুবাৰ স্বাক্ষৰ কৰিব লাগিব, প্ৰথমবাৰ তেওঁলোকে পৰীক্ষাকক্ষত আসন গ্ৰহণ কৰাৰ সময়ত আৰু দ্বিতীয়বাৰ **OMR** উত্তৰপত্ৰ নিৰীক্ষকক জমা দিয়াৰ সময়ত। কোনো পৰীক্ষাৰ্থীয়ে **OMR** উত্তৰপত্ৰ জমা দিয়াৰ সময়ত যদি দ্বিতীয়বাৰ স্বাক্ষৰ নকৰে, তেনেহ'লে তেওঁলোক অনুপস্থিত বুলি বিবেচিত হ'ব।
- ♦ পৰীক্ষাৰ্থীয়ে প্ৰশ্নকাকতখনত দিয়া নিৰ্ধাৰিত ঠাইত তেওঁলোকৰ বোল নম্বৰ স্পষ্টকৈ লিখিব লাগিব।
- ♦ পৰীক্ষাৰ্থী নিশ্চিত হোৱা উচিত যাতে প্ৰশ্নকাকতৰ নম্বৰ আৰু সংশ্লিষ্ট প্ৰশ্নকাকতৰ ক'ড নম্বৰটো **OMR** উত্তৰপত্ৰৰ নিৰ্দিষ্ট ঠাইত লিখা হয়। উদাহৰণস্বৰূপে, প্ৰশ্নকাকতৰ ক'ড পূৰণ কৰাৰ সময়ত, পৰীক্ষাৰ্থীয়ে গ্ৰহণ কৰা প্ৰশ্নকাকতৰ ক'ড **'A'** থাকিলে **OMR** উত্তৰপত্ৰৰ নিৰ্দিষ্ট ঠাইত **'A'** লিখিব লাগিব আৰু নিৰ্দিষ্ট বৃত্ত **'A'**টো ক'লা কৰিব লাগিব।
- ♦ পৰীক্ষাৰ্থীয়ে সকলো ধৰণৰ প্ৰয়োজনীয় খচৰা (rough) কাম প্ৰশ্নকাকতত দিয়া ঠাইতহে কৰিব পাৰিব। পৰীক্ষাৰ্থীয়ে খচৰা (rough) কাম **OMR** উত্তৰপত্ৰ বা অন্য কোনো ধৰণৰ কাগজত কৰিব নোৱাৰিব। **OMR** উত্তৰপত্ৰত যদি এই খচৰা (rough) কাম পৰীক্ষাৰ্থীয়ে কৰে অথবা বগা ৰং ব্যৱহাৰ কৰে, তেতিয়াহ'লে তেনে **OMR** উত্তৰপত্ৰৰ মূল্যায়ন কৰা নহ'ব।
- ♦ প্ৰশ্নৰ মাধ্যম বা সংস্কৰণত কোনো ধৰণৰ বিসঙ্গতি থাকিলে নাইবা বুজি পোৱাত অসুবিধা হ'লে ইংৰাজী সংস্কৰণটোকেই প্ৰকৃত শুদ্ধ বুলি গণ্য কৰা হ'ব।
- ♦ পৰীক্ষা চলি থকা অৱস্থাত কোনো পৰীক্ষাৰ্থীক পৰীক্ষাকেন্দ্ৰ এৰি যাবলৈ অনুমতি দিয়া নহ'ব।
- ♦ পৰীক্ষাৰ্থীসকলক পৰীক্ষাৰ হল/কক্ষত নিষিদ্ধ সামগ্ৰী যেনে মোবাইল ফোন, কেলকুলেটৰ বা কোনো ধৰণৰ বৈদ্যুতিক সামগ্ৰী বা আপত্তিজনক বস্তু পৰীক্ষাকক্ষলৈ নিয়াত অনুমতি দিয়া নহ'ব। যদি কোনো পৰীক্ষাৰ্থীয়ে অসৎ উপায় অৱলম্বন কৰে বা ওপৰত উল্লেখ কৰা পৰীক্ষাৰ নিয়মসমূহ উলংঘা কৰে, তেন্তে তেওঁক অযোগ্য বুলি বিবেচনা কৰা হ'ব।



**OMR** উত্তরপত্রটি পূরণ করবার পূর্বে পরীক্ষার্থীকে অবশ্যই নিশ্চিত হতে হবে যে প্রশ্নপত্রে **1-48** পর্যন্ত সমস্ত পৃষ্ঠাগুলি ক্রমানুসারে মুদ্রিত হয়েছে এবং নিশ্চিত করতে হবে যে **OMR** উত্তরপত্রটি কেবল তাঁর জন্য। কোনো প্রকার বিসঙ্গতি থাকলে অবিলম্বে নিরীক্ষককে অবগত করিয়ে প্রশ্নপত্রটি অথবা **OMR** উত্তরপত্রটি বদল করে নেবেন।

### গুরুত্বপূর্ণ নির্দেশাবলী

- ♦ সকাল **10:00** ঘটিকার পূর্বে প্রশ্নপত্রটি পরীক্ষা কক্ষতে খুলবেন না।
- ♦ **OMR** উত্তরপত্রের যথাযথ বৃত্তটিতে নীল/কালো বলপয়েন্ট পেন দ্বারা শুদ্ধ উত্তরটি চিহ্নিত করবার পূর্বে প্রশ্নটি সাবধানে পড়ে নেবেন, কারণ ভুল হলে বা শুদ্ধ করবার জন্য কোনো অতিরিক্ত **OMR** উত্তরপত্র দেওয়া হবে না।
- ♦ ভুল উত্তরের জন্য কোনো ঋণাত্মক নম্বর থাকবে না।
- ♦ যদি পরীক্ষার্থী কোনো প্রশ্নের জন্য একের অধিক বিকল্প উত্তর নির্বাচন করেন, তাহলে সেই প্রশ্নটির কোনো মূল্যায়ন করা হবে না।
- ♦ **Non-Standard OMR** উত্তরপত্র ব্যবহারের ক্ষেত্রে পরীক্ষার্থীকে অবশ্যই তাঁদের রোল নম্বর, প্রশ্নপুস্তিকার ক্রমিক নম্বর, প্রশ্নপুস্তিকার কোডটি **OMR** উত্তরপত্রের নির্দিষ্ট স্থানে কালো করতে হবে এবং সামনের পৃষ্ঠা ও পেছনের পৃষ্ঠায় একটি বর্ণমালা এবং সংখ্যাসূচক লিখে **OMR** উত্তরপত্রটি সঠিকভাবে পূরণ করতে হবে। অন্যথা **OMR** উত্তরপত্রের মূল্যায়ন করা হবে না।
- ♦ পরীক্ষার্থীদিগকে নিরীক্ষকের দেওয়া ফটোযুক্ত উপস্থিতিপত্রে দুবার স্বাক্ষর করতে হবে, প্রথমবার তাঁদের পরীক্ষা কক্ষে আসন গ্রহণ করার সময়ে এবং দ্বিতীয়বার **OMR** উত্তরপত্র নিরীক্ষককে জমা দেওয়ার সময়ে। কোনো পরীক্ষার্থী **OMR** উত্তরপত্র জমা দেওয়ার সময় যদি দ্বিতীয়বার স্বাক্ষর না করেন, তাহলে তাঁকে অনুপস্থিত বলে গণ্য করা হবে।
- ♦ পরীক্ষার্থীদের প্রশ্নপত্রে দেওয়া নির্দিষ্ট স্থানে পরিষ্কারভাবে তাঁদের রোল নম্বর অবশ্যই লিখতে হবে।
- ♦ পরীক্ষার্থীর নিশ্চিত হওয়া উচিত যাতে প্রশ্নপত্রের নম্বর এবং সংশ্লিষ্ট প্রশ্নপত্রের কোড নম্বরটি **OMR** উত্তরপত্রের নির্দিষ্ট স্থানে লেখা হয়। উদাহরণস্বরূপ, প্রশ্নপত্রের কোড পূরণ করার সময়, পরীক্ষার্থীর পাওয়া প্রশ্নপত্রের কোড '**A**' থাকলে **OMR** উত্তরপত্রের নির্দিষ্ট স্থানে '**A**' লিখতে হবে এবং নির্দিষ্ট বৃত্ত '**A**'টি কালো করতে হবে।
- ♦ পরীক্ষার্থী সকল ধরনের প্রয়োজনীয় খসড়া (rough) কাজ প্রশ্নপত্রে দেওয়া স্থানে করতে পারবেন। পরীক্ষার্থী খসড়া (rough) কাজ **OMR** উত্তরপত্র বা অন্য কোনো ধরনের কাগজে করতে পারবেন না। যদি পরীক্ষার্থী এই খসড়া (rough) কাজ **OMR** উত্তরপত্রে করেন বা সাদা রঙ ব্যবহার করেন, তবে সেই **OMR** উত্তরপত্রের মূল্যায়ন করা হবে না।
- ♦ প্রশ্নের মাধ্যম বা সংস্করণে কোনো ধরনের অসঙ্গতি হলে অথবা বোঝার অসুবিধা হলে ইংরাজী সংস্করণটিকেই প্রকৃত শুদ্ধ বলে গণ্য করা হবে।
- ♦ পরীক্ষা চলাকালীন কোনো পরীক্ষার্থীকে পরীক্ষাকেন্দ্র ত্যাগ করার অনুমতি দেওয়া হবে না।
- ♦ পরীক্ষার্থীদের পরীক্ষার হল/কক্ষে কোনো নিষিদ্ধ সামগ্রী যেমন মোবাইল ফোন, ক্যালকুলেটর এবং কোনো বৈদ্যুতিক গ্যাজেট বা আপত্তিকর সামগ্রী ইত্যাদি বহন করার অনুমতি দেওয়া হবে না। পরীক্ষার্থীদের যদি কোনো অসৎ উপায় অবলম্বন করতে দেখা যায় বা তাঁরা যদি উপরে উল্লিখিত পরীক্ষার নিয়মসমূহ উল্লঙ্ঘন করেন, তবে তাঁদের অযোগ্য ঘোষণা করা হবে।



**OMR** फिन बिलाइखौ आबुं खालामनायनि सिगांनो बिजाथिया 1-48 सिम गसिबो बिलाइफ्रा सोंथि बिलाइयाव फारियै सेबखानाय दं आरो **OMR** फिन बिलाइया गावनि थाखायल' बे बाथ्राखौ रोखा जानांगोन। माबाफोर बेले-बेजे मोनोब्ला सोंथि बिलाइखौ एबा **OMR** फिन बिलाइखौ सोलायना होनो थाखाय नायदिंगिरिनो थाबैनो मिथिहो।

### गोनां बिथोन

- ♦ फुनि 10:00 रिंगानि सिगां सोंथि बिलाइखौ आनजाद खथायाव खेवनो नडा।
- ♦ **OMR** फिन बिलाइनि होखानाय बेंखनाव निला/गोसोम बलपइन्ट कलमजों गेबें फिनखौ सिन होनायनि सिगांनो सोंथिखौ मोजाडै फरायनानै लाग्रो, मानोना नैथियाव : गोरोन्थि जायोब्ला एबा गेबें खालामफिननो थाखाय मोनबो उफेरा **OMR** फिन बिलाइ होनाय जानाय नडा।
- ♦ जायखिजाया गोरोन्थि फिननायनि दानख' नम्बर थानाय नडा।
- ♦ बिजाथिया मोनसे सोंथियाव मोनसेनिखुइ बांसिन फिनखौ सायख'योब्ला सोंथिखौ आनजाद नायनाय जानाय नडा।
- ♦ **Non-Standard OMR** फिन बिलाइ बाहायनायनि बिथिडाव बिजाथिया रोखायै गावनि रल नम्बर, सोंथि बिलाइनि फारि नं., सोंथि बिलाइनि कडखौ **OMR** फिन बिलाइनि होखानाय जायगायाव गोसोम खालामना होनांगोन आरो सिगांथिनि बिलाइयाव आरो उनर्थिजायनि बिलाइयाव मोनसे हांखो आरो बिसान (अनजिमा) लिरनानै गेबेडै आबुं खालामनो नांगोन। नडाब्ला **OMR** फिन बिलाइखौ आनजाद नायनाय जानाय नडा।
- ♦ बिजाथिफोरा खेबनै सहि होनो नांगोन, खेबसे आनजाद खथायाव हाबनानै गावबा गाव जायगायाव जखानायनि उनाव बिबानाव थानाय नायदिंगिरिया होनाय फट'गोनां नुजाथिनाय बिलाइयाव, आरो गुबुन मोनसेया, आनजाद होखानायनि उनाव नायदिंगिरिनो **OMR** फिन बिलाइखौ गथायनाय समाव। **OMR** फिन बिलाइ गथायनाय समाव बिजाथिया सहि होआखैब्ला बियो आनजादाव जवाखैमोन होननानै गनायनाय जागोन।
- ♦ सोंथि बिलाइयाव होनाय थिखानाय जायगायाव बिजाथिया रोखायै गावनि रल नम्बरखौ लिरनांगोन।
- ♦ सोंथि बिलाइनि नम्बर आरो सोंथि बिलाइनि कड नम्बरखौ **OMR** फिन बिलाइनि होखानाय जायगायाव लिरनाय/गोसोम खालामनायनि फारसे बिजाथिया रोखा जानाया गोनां। बिदिन्थि बादियै, सोंथि बिलाइनि कड आबुं खालामनाय समाव बिजाथिया मोननाय सोंथि बिलाइनि कडा 'A' जायोब्ला **OMR** फिन बिलाइनि होखानाय जायगायाव 'A' लिरनो नांगोन आरो होखानाय बेंखन 'A' खौ गोसोम खालामनो नांगोन।
- ♦ बिजाथिफोरा गसिबो रोखोमनि नांगौ जानाय खालामना नायनायनाय (rough) खामानिखौ सोंथि बिलाइनि होखानाय जायगायावसो खालामनो नांगोन। बिजाथिफोरा खालामना नायनायनाय खामानिखौ फिन बिलाइ एबा बिदि गुबुन रोखोमनि लेखा बिलाइयाव खालामनो मोननाय नडा। फिन बिलाइयाव बे खालामना नायनायनाय (rough) खामानिखौ बिजाथिया खालामोब्ला एबा लिरला लिरसि (overwriting) खालामोब्ला एबा गुफुर गाबखौ (whitener) **OMR** फिन बिलाइयाव फोनोब्ला बै **OMR** फिन बिलाइखौ नायनाय जानाय नडा।
- ♦ सोंथि बिलाइनि बिजों एबा फोसावनायाव माबाफोर गोरोन्थि थायोब्ला एबा बुजि मोननायाव जेंना जायोब्ला इंराजि रावजों फोसावनाय सोंथि बिलाइखौनो गेबें होननानै गनायना लानाय जागोन।
- ♦ आनजाद सोलिफुबाय थानाय समाव रावबो बिजाथिखौ आनजादथिलि गारना थानायनि गनायथि होनाय जानाय नडा।
- ♦ आनजादथिलि/खथायाव सोरबा बिजाथिफ्रा हेंथा गोनां मुवा जैरे मबाइल फन, केलकुलेटर एबा बिदि रोखोमनि माबाफोर इलेक्ट्रनिक मुवा बाहायोब्ला बिनि बिजाथिखौ दानना होनाय जागोन।



**SPACE FOR ROUGH WORK**



1. অসমৰ একমাত্ৰ মালভূমিটো হৈছে

- (A) দক্ষিণাত্য মালভূমি (B) কাৰ্বি মালভূমি  
(C) মেঘালয় মালভূমি (D) চোটনাগপুৰ মালভূমি

1. অসমৰ একমাত্ৰ মালভূমিটি হলো

- (A) দক্ষিণাত্য মালভূমি (B) কাৰ্বি মালভূমি  
(C) মেঘালয় মালভূমি (D) ছোটনাগপুৰ মালভূমি

1. আসামনি মৌনসেল' জৌয়েনা জাৰ্দৌ

- (A) খোলা জৌয়েন (B) কাৰ্বি জৌয়েন  
(C) মেঘালয় জৌয়েন (D) সট'নাগপুৰ জৌয়েন

1. The only plateau in Assam is

- (A) Deccan Plateau (B) Karbi Plateau  
(C) Meghalaya Plateau (D) Chota Nagpur Plateau

2. ছিহাবুদ্দিন তালিছৰ 'ফাথিয়া-ই-ইব্ৰিয়া' তলৰ কোনটো ঘটনা জনাৰ বাবে গুৰুত্বপূৰ্ণ উৎস ?

- (A) শৰাইঘাটৰ যুদ্ধ (B) ইয়াণ্ডাবুৰ সন্ধি  
(C) মীৰ জুমলাৰ অভিযান (D) মোৰামৰীয়া বিদ্ৰোহ

2. সিহাবুদ্দিন তালিছৰ 'ফাথিয়া-ই-ইব্ৰিয়া' নীচৰ কোন ঘটনা জনাৰ বিষয়ে এক গুৰুত্বপূৰ্ণ উৎস ?

- (A) শৰাইঘাটৰ যুদ্ধ (B) ইয়াণ্ডাবুৰ সন্ধি  
(C) মীৰ জুমলাৰ অভিযান (D) মোয়ামৰিয়া বিদ্ৰোহ

2. সিহাবুদ্দিন তালিছনি 'ফাথিয়া-ই-ইব্ৰিয়া'আ গাহায়নি বৰে জাথাইখৌ মিথিনায়নি থাখায় গোনাং ফুংখা?

- (A) শায়ঘাটনি দাবহা (B) ইয়ান্দাবুনি গোৰোবথা  
(C) মীৰজুমলানি দাববায়নায (D) মবামৰিয়া বিয়ায়নাযখানায

2. *Fathiyyah-i-Ibriyyah* of Shihab-ud-din Talish is an important source to know about

- (A) the Battle of Saraighat (B) the Treaty of Yandaboo  
(C) Mir Jumla's Expedition (D) Moamoria Rebellion

3. তলত দিয়াবোৰৰ কোনটো অসমৰ অৰ্থনীতিৰ মুখ্য স্তম্ভ ?

- (A) তেল আৰু প্ৰাকৃতিক গেছ (B) পৰ্যটন  
(C) নিৰ্মাণকাৰ্য (D) কৃষিকাৰ্য

3. নিম্নলিখিত কোনটি আসামৰ অৰ্থনীতিৰ প্ৰধান স্তম্ভ ?

- (A) তেল এবং প্ৰাকৃতিক গ্যাস (B) পৰ্যটন  
(C) নিৰ্মাণকাৰ্য (D) কৃষিকাজ



3. আসামনি রাংখান্থিনি गाहाइ खुन्थियाया मा?
- (A) थाव आरो मिर्थिगानि गेस (B) थाबायदावनाय (Tourism)  
(C) दिहुनथाइ (Manufacturing) (D) आबाद

3. Which of the following is the main pillar of Assam's economy?
- (A) Oil and Natural Gas (B) Tourism  
(C) Manufacturing (D) Agriculture

- 
4. কোন চনত असमৰ चतुर्थ तेल शोधनागाब नुमलिगडत सूचना कबा हैछिल ?
- (A) 1919 (B) 1999  
(C) 1991 (D) 1989

4. नुमलिगडे असमेर चतुर्थ तेल शोधनागाब कौन साले चालू करा हयेछिल ?
- (A) 1919 (B) 1999  
(C) 1991 (D) 1989

4. आसामनि त्रैथि थाव सोदांसालिखौ बबे मायथाइयाव नुमलिगराव गायसननाय?
- (A) 1919 (B) 1999  
(C) 1991 (D) 1989

4. In which year was the fourth oil refinery of Assam started at Numaligarh?
- (A) 1919 (B) 1999  
(C) 1991 (D) 1989

- 
5. असमत प्रधानकै उंएपन्न होब्रा खादशस्यविध हैछे
- (A) धान (B) येँछ  
(C) माह (D) मबापाट

5. असमेर प्रधान उंएपादित खादशस्य हलो
- (A) धान (B) गम  
(C) डाल (D) पाट

5. आसामाव बांसिन दिहुनजानाय फसला जादौ
- (A) माइ (B) गिहु  
(C) सबाइ (D) फाथो

5. The staple food crop of Assam is
- (A) rice (B) wheat  
(C) pulses (D) jute



6. 'কামাখ্যা মন্দিৰ' অৱস্থিত  
(A) নীলাচল পাহাৰত  
(B) চিত্ৰাচল পাহাৰত  
(C) মণিকুট পাহাৰত  
(D) এইবোৰৰ এটাও নহয়
6. 'কামাখ্যা মন্দিৰ' অৱস্থিত  
(A) নীলাচল পাহাড়ে  
(B) চিত্ৰাচল পাহাড়ে  
(C) মণিকুট পাহাড়ে  
(D) এগুলিৰ একটিও নয়
6. কামাখ্যা মন্দিৰ থানায় হাজোআ জাদৌ  
(A) নিলাসল হাজো  
(B) সিন্ধাসল হাজো  
(C) মণিকুট হাজো  
(D) বেফোৱনি মোনসেবো নড়া
6. The Kamakhya Temple is situated at  
(A) Nilachal Hills  
(B) Chitrachal Hills  
(C) Manikuta Hills  
(D) None of these

- 
7. আহোম ৰাজবংশৰ শেষৰগৰাকী স্বৰ্গদেউ কোন আছিল ?  
(A) জয়ধ্বজ সিংহ  
(B) চক্ৰধ্বজ সিংহ  
(C) পুৰন্দৰ সিংহ  
(D) প্ৰমত্ত সিংহ
7. আহোম ৰাজবংশৰ শেষ স্বৰ্গদেও কে ছিলেন ?  
(A) জয়ধ্বজ সিংহ  
(B) চক্ৰধ্বজ সিংহ  
(C) পুৰন্দৰ সিংহ  
(D) প্ৰমত্ত সিংহ
7. আহম ৰাজফোলেৱনি জোৰথা স্বৰ্গদেৱা সোৱমোন?  
(A) জয়ধ্বজ সিংহ  
(B) চক্ৰধ্বজ সিংহ  
(C) পুৰন্দৰ সিংহ  
(D) প্ৰমত্ত সিংহ
7. Who was the last Swargadeo of Ahom Dynasty?  
(A) Jayadhwaj Singha  
(B) Chakradhwaj Singha  
(C) Purandar Singha  
(D) Pramatta Singha

- 
8. 'জয় দৌল' কাৰ স্মৃতিত নিৰ্মাণ কৰা হৈছিল ?  
(A) জয়মতী কুঁৱৰীৰ  
(B) ফুলেশ্বৰী কুঁৱৰীৰ  
(C) অম্বিকা কুঁৱৰীৰ  
(D) ৰাণী গাইডালুৰ
8. 'জয় দৌল' কাৰ স্মৃতিতে তৈৰি কৰা হৈছিল ?  
(A) জয়মতী কুঁৱৰী  
(B) ফুলেশ্বৰী কুঁৱৰী  
(C) অম্বিকা কুঁৱৰী  
(D) ৰাণী গাইডিনলিউ





8. 'जय दौल'खौ लुनाय जादोमोन  
(A) जयमति कुवरिनि गोसोखांथियाव (B) फुलेश्वरि कुवरिनि गोसोखांथियाव  
(C) अम्बिका कुवरिनि गोसोखांथियाव (D) रानि गाइदालुनि गोसोखांथियाव
8. 'Joy Daul' was built in the memory of  
(A) Joymoti Kunwari (B) Phuleswari Kunwari  
(C) Ambika Kunwari (D) Rani Gaidinliu

- 
9. निम्नलिखित जिलासमूहब कोनखन जिला बराक उपत्यकात अरखित नहय ?  
(A) श्रीभूमि (B) हईलाकान्दि  
(C) काछार (D) मरिगाँउ
9. निम्ने उल्लिखित जेलासमूहेर कोन् जेलाटि बराक उपत्यकाय अवस्थित नय ?  
(A) श्रीभूमि (B) हईलाकान्दि  
(C) काछार (D) मरिगाँउ
9. गाहायनि बबे मोनसेया बराक हायेननि जिला नडा?  
(A) श्रीभूमि (B) हाइलाकान्दि  
(C) काछार (D) मरिगाव
9. Which of the following is **not** a district of Barak Valley?  
(A) Shribhumi (B) Hailakandi  
(C) Cachar (D) Morigaon

- 
10. निम्नलिखित कोनखन बाज्यक स्वर्गदेउ रुद्रसिंहई अरशेषत आहोम बाज्यत अन्तर्भुक्त कबिछिल ?  
(A) कमता बाज्य (B) डिमासा-कछारी बाज्य  
(C) डफला बाज्य (D) एहबोबर एटाँ नहय
10. निम्ने उल्लिखित कोन् बाज्यटि शेष पर्यन्त स्वर्गदेउ रुद्रसिंहहेर द्वारा आहोम राज्येर अन्तर्भुक्त हयेछिल ?  
(A) कामता राज्य (B) डिमासा-काछारी राज्य  
(C) डफला राज्य (D) एगुलिर एकाटिँ नय
10. गाहायनि बबे राइजोखौ स्वर्गदेव रुद्रसिंहवा आहम राइजोर्जो सरजाबदोमोन?  
(A) कमता राइजो (B) दिमासा-कछारी राइजो  
(C) डफला राइजो (D) बेफोरनि मोनसेबो नडा
10. Which of the following Kingdoms was finally annexed into the Ahom Kingdom by Swargadeo Rudra Singha?  
(A) Kamata Kingdom (B) Dimasa-Kachari Kingdom  
(C) Dafala Kingdom (D) None of these



11. অসমৰ প্ৰথমগৰাকী মহিলা মুখ্যমন্ত্ৰী কোন আছিল ?
- (A) চৈয়দা আনোৱাৰা টাইমুৰ (B) সুচেতা কৃপালনী  
(C) নন্দিনী সতপতি (D) মেহবুবা মুফতি
11. অসমৰ প্ৰথম মহিলা মুখ্যমন্ত্ৰী কে ছিলেন ?
- (A) সৈয়দা আনোৱাৰা টাইমুৰ (B) সুচেতা কৃপালনী  
(C) নন্দিনী সতপতি (D) মেহবুবা মুফতি
11. আসামনি গিৰিসিন আইজো গিৰি মন্থিয়া সোৱমোন?
- (A) সৈয়দা আনৱাৰা টাইমুৰ (B) সুচেতা কৃপালনী  
(C) নন্দিনী সতপতি (D) মেহবুবা মুফতি
11. Who was the first lady Chief Minister of Assam?
- (A) Syeda Anwara Taimur (B) Sucheta Kripalani  
(C) Nandini Satpathy (D) Mehbooba Mufti

12. কাৰ ৰাজত্বকালত ইটা আৰু চূণ-চুকীৰ মিশ্ৰণ ব্যৱহাৰ কৰি 'ৰংঘৰ'ৰ পুনৰ্নিৰ্মাণ কৰা হৈছিল ?
- (A) স্বৰ্গদেও জয়ধ্বজ সিংহ (B) স্বৰ্গদেও পুৰন্দৰ সিংহ  
(C) স্বৰ্গদেও গদাধৰ সিংহ (D) স্বৰ্গদেও প্ৰমত্ত সিংহ
12. কাৰ ৰাজত্বকালে ইটা এৰু চূণ-সুৰকিৰ মিশ্ৰণ ব্যৱহাৰ কৰে 'ৰং-ঘৰ' পুনৰ্নিৰ্মিত হৈছিল ?
- (A) স্বৰ্গদেও জয়ধ্বজ সিংহ (B) স্বৰ্গদেও পুৰন্দৰ সিংহ  
(C) স্বৰ্গদেও গদাধৰ সিংহ (D) স্বৰ্গদেও প্ৰমত্ত সিংহ
12. সোৱনি খুঁনাৰ সমাৰ ৰংঘৰত ইটা আৰু মৰ্তাৰজো লুফিনাৰ জাৰ্দোমোন?
- (A) স্বৰ্গদেৱ জয়ধ্বজ সিংহ (B) স্বৰ্গদেৱ পুৰন্দৰ সিংহ  
(C) স্বৰ্গদেৱ গদাধৰ সিংহ (D) স্বৰ্গদেৱ প্ৰম'ত্ত সিংহ
12. During whose reign was the Rang Ghar reconstructed using bricks and mortar?
- (A) Swargadeo Jayadhwaj Singha (B) Swargadeo Purandar Singha  
(C) Swargadeo Gadadhar Singha (D) Swargadeo Pramatta Singha

13. 'অসম কাৰ্য্যকিং আৰু কেনইং প্ৰশিক্ষণ কেন্দ্ৰ' ক'ত অৱস্থিত ?
- (A) দীপৰ বিল, গুৱাহাটী (B) পানী দিহিং বিল, শিৱসাগৰ  
(C) মাগুৰী বিল, তিনিচুকিয়া (D) চাৰণ বিল, মৰিগাঁও
13. 'আসাম কাৰ্য্যকিং এৰু ক্যানয়িং প্ৰশিক্ষণ কেন্দ্ৰ' কোথায় অবস্থিত ?
- (A) দীপৰ বিল, গুৱাহাটী (B) পানী দিহিং বিল, শিৱসাগৰ  
(C) মাগুৰী বিল, তিনিচুকিয়া (D) চাৰণ বিল, মৰিগাঁও



13. 'आसाम कयाकि आरो केन'यिं ट्रेडनिं चेन्टार'या बबेयाव दं?

- (A) दिपर बिल, गुवाहाटि (B) पानि दिहिं बिल, सिबसागर  
(C) मागुरि बिल, तिनसुकिया (D) चरन बिल, मरिगाव

13. Where is the 'Assam Kayaking and Canoeing Training Centre' located?

- (A) Deepor Beel, Guwahati (B) Pani Dihing Beel, Sivasagar  
(C) Maguri Beel, Tinsukia (D) Charan Beel, Morigaon

14. असमर 'पुलिच प्रशिक्कण महाविद्यालय'खन क'त अरखित ?

- (A) नगाँउ (B) देरगाँउ  
(C) दुधनै (D) डिगबै

14. असमेर 'पुलिश प्रशिक्कण महाविद्यालय'टि कोथाय अवखित ?

- (A) नगाँउ (B) देरगाँउ  
(C) दुधनै (D) डिगबय

14. आसामनि 'पुलिस फोरोंथाइ फरायसालिमा'आ माबेयाव दं?

- (A) नगाव (B) देरगाव  
(C) दुधनै (D) डिगबै

14. Where is the 'Police Training College' in Assam located?

- (A) Nagaon (B) Dergaon  
(C) Dudhnoi (D) Digboi

15. 'गरमपानी अभयारण्य' क'त अरखित ?

- (A) डिफु, असम (B) गेण्टक, छिकिम  
(C) जुनागड, गुजराट (D) क'हिमा, नगालेण्ड

15. 'गरमपानी अभयारण्य'टि कोथाय अवखित ?

- (A) डिफु, असम (B) ग्याण्टक, सिक्किम  
(C) जुनागड, गुजराट (D) कोहिमा, नागाल्याण्ड

15. 'गरमपानी अरनबारि'आ माबेयाव दं?

- (A) डिफु, आसाम (B) गॅटक, सिक्किम  
(C) जुनागड, गुजराट (D) कहिमा, नागालेण्ड

15. Where is the 'Garampani Sanctuary' located?

- (A) Diphu, Assam (B) Gangtok, Sikkim  
(C) Junagadh, Gujarat (D) Kohima, Nagaland



16. কাৰ ৰাজত্বকালত চীনা পৰিব্ৰাজক হিউয়েন চাঙে কামৰূপ ভ্ৰমণ কৰিছিল ?
- (A) ভূতিবৰ্মন (B) হৰ্জৰবৰ্মন  
(C) ৰত্নপাল (D) ভাস্কৰবৰ্মন
16. কাৰ ৰাজত্বকালে চীনদেশীয় পৰিব্ৰাজক হিউয়েন সাঙে কামৰূপ ভ্ৰমণে এসেছিলেন ?
- (A) ভূতিবৰ্মন (B) হৰ্জৰবৰ্মন  
(C) ৰত্নপাল (D) ভাস্কৰবৰ্মন
16. সোৱনি ৱাজ্জো খুঁনায় সমাব চিনা দাবৰায়াৰি হিউয়েন সাঙা কামৰূপ দাবৰায়াফৈৰ্দৌমোন?
- (A) ভূতিবৰ্মন (B) হৰ্জৰবৰ্মন  
(C) ৰত্নপাল (D) ভাস্কৰবৰ্মন
16. During whose reign did the Chinese pilgrim Hiuen Tsang visit Kamarupa?
- (A) Bhutivarman (B) Harjaravarman  
(C) Ratnapala (D) Bhaskaravarman

17. Asian Development Bank-এ অসমত নবীকৰণযোগ্য শক্তিৰ ক্ষমতা বৃদ্ধি আৰু শক্তি সুৰক্ষা উন্নত কৰাৰ বাবে শেহতীয়াকৈ কিমান পৰিমাণৰ ঋণ অনুমোদন কৰিছে ?
- (A) 432.25 মিলিয়ন ডলাৰ (B) 430.25 মিলিয়ন ডলাৰ  
(C) 443.25 মিলিয়ন ডলাৰ (D) 434.25 মিলিয়ন ডলাৰ
17. এশিয়ান ডেভেলপমেণ্ট ব্যাংক সম্প্ৰতি আসাম ৰাজ্যে নবীকৰণযোগ্য শক্তিৰ ক্ষমতা বাড়াতে এবং শক্তি নিৰাপত্তা উন্নত করতে कत परिमाण ऋण अनुमोदन करेछे ?
- (A) 432.25 मलियन डलार (B) 430.25 मलियन डलार  
(C) 443.25 मलियन डलार (D) 434.25 मलियन डलार
17. আসাম হাদৰসানি ফোদানজাথাব গোহোখ্ৰী বাঁহোনো আৰো গোহো ৱৈখাথি জৌগাহোনো বাবৈসো সিগাং এশিয়ান ডেভেলপমেণ্ট বেঁকা বেৰেবাঁ ৱাং লননি গনায়থি হোঁদোঁ?
- (A) 432.25 মিসিন জসাক (B) 430.25 মিসিন জসাক  
(C) 443.25 মিসিন জসাক (D) 434.25 মিসিন জসাক
17. The Asian Development Bank recently approved what amount of loan to increase renewable energy capacity and improve energy security in the State of Assam?
- (A) \$ 432.25 million (B) \$ 430.25 million  
(C) \$ 443.25 million (D) \$ 434.25 million

18. 1942 চনৰ 'ভাৰত ত্যাগ আন্দোলন'ত তলৰ কোনজনক ফাঁচি দিয়া হৈছিল ?
- (A) গোমথৰ কোঁৱৰ (B) মণিৰাম দেৱান  
(C) পিয়লী ফুকন (D) কুশল কোঁৱৰ
18. 1942-এৰ 'ভাৰত ছাড় আন্দোলন'-এ নীচৰ কোনজনকে ফাঁসি দেওয়া হয়েছিল ?
- (A) গোমথৰ কোঁৱৰ (B) মণিৰাম দেওয়ান  
(C) পিয়লি ফুকন (D) কুশল কোঁৱৰ



18. 1942 मायथाइनि 'भारत नागार सोमावसारनाय'आव गाहायनि सोर सासेखौ फासि होनाय जादोमोन?
- (A) गमधर कौवर (B) मणिराम देवान  
(C) पियलि फुकन (D) कुसल कौवर

18. Who among the following was hanged in the 'Quit India Movement' of 1942?
- (A) Gomdhar Konwar (B) Maniram Dewan  
(C) Piyoli Phukan (D) Kushal Konwar

19. असमर लगत कोन दुखन देशर आन्तःराष्ट्रीय सीमा आछे ?
- (A) भूटान आरु बांग्लादेश (B) भूटान आरु मायानमार  
(C) बांग्लादेश आरु मायानमार (D) मायानमार आरु चीन

19. असमर सार्थे कोन दुटि देशर आन्तःराष्ट्रीय सीमाना रयेछे ?
- (A) भूटान ओ बांग्लादेश (B) भूटान ओ मायानमार  
(C) बांग्लादेश ओ मायानमार (D) मायानमार ओ चीन

19. आसामजौ बबे गनै हादरहा हादर गेजेरारि सिमा दं?
- (A) भुटान आरु बांग्लादेश (B) भुटान आरु म्यानमार  
(C) बांग्लादेश आरु म्यानमार (D) म्यानमार आरु चीन

19. Assam has international boundary with which two countries?
- (A) Bhutan and Bangladesh (B) Bhutan and Myanmar  
(C) Bangladesh and Myanmar (D) Myanmar and China

20. ভাৰতৰ বৃহত্তম নদী-দ্বীপটো অৱস্থিত হৈছে
- (A) বিহাৰত (B) পশ্চিমবঙ্গত  
(C) উৰিষ্যাতে (D) অসমতে

20. ভারতবর্ষের বৃহত্তম নদী-দ্বীপটি অবস্থিত
- (A) বিহারে (B) পশ্চিমবঙ্গে  
(C) উড়িষ্যায় (D) অসমে

20. भारतनि देरसिन दैमा दिया दं
- (A) बिहारवा (B) सोनाब बंग'वाव  
(C) उरिस्यायाव (D) आसामाव

20. The largest river island in India is situated in
- (A) Bihar (B) West Bengal  
(C) Odisha (D) Assam



21. ভাৰতৰ বৰ্তমান বৈদেশিক পৰিক্ৰমা মন্ত্ৰী কোন ?

- (A) কিৰেণ ৰিজিজু (B) ভূপেন্দ্ৰ যাদব  
(C) জগত প্ৰকাশ নাড্ডা (D) ড० এচ. জয়শংকৰ

21. ভাৰতৰ বৰ্তমান পৰরাষ্ট্ৰ-বিষয়ক মন্ত্ৰী কে ?

- (A) কিৰেণ ৰিজিজু (B) ভূপেন্দ্ৰ যাদব  
(C) জগৎ প্ৰকাশ নাড্ডা (D) ড. এস. জয়শঙ্কৰ

21. भारतनि दानि External Affairs Minister आ सौर?

- (A) किरण रिजिजु (B) भुपेन्द्र यादव  
(C) जगत प्रकाश नाड्डा (D) ड० एस० जयशंकर

21. Who is the current External Affairs Minister of India?

- (A) Kiren Rijiju (B) Bhupender Yadav  
(C) Jagat Prakash Nadda (D) Dr. S. Jaishankar

22. Z-Morh সুৰঙ্গ (সোণামাৰ্গ সুৰঙ্গ)ৰ বিষয়ত তলৰ উক্তিৰোৰ বিবেচনা কৰা :

- ই জোজিলা সুৰঙ্গ প্ৰকল্পৰ এটা অংশ।
- 6.5 km দীঘল সুৰঙ্গটো জম্মু-কাশ্মীৰৰ গগনগিৰ আৰু সোণামাৰ্গ অঞ্চলক সংযুক্ত কৰিছে।
- প্ৰকল্পটো National Highway Authority of India-ৰ তত্ত্বাৱধানত আছে।

তলৰ কোনটো/কোনবোৰ উক্তি সঠিক ?

- (A) কেৱলমাত্ৰ 1 আৰু 2 (B) কেৱলমাত্ৰ 1  
(C) কেৱলমাত্ৰ 2 আৰু 3 (D) কেৱলমাত্ৰ 2

22. Z-Morh সুড়ঙ্গ (সোণামাৰ্গ সুড়ঙ্গ)-এৰ বিষয়ে নীচৰ উক্তিগুলি বিবেচনা কৰো :

- এটি জোজিলা সুড়ঙ্গ প্ৰকল্পৰ একটি অংশ।
- 6.5 km দীৰ্ঘ সুড়ঙ্গটি জম্মু এবং কাশ্মীরের গগনগির এবং সোণামাৰ্গ অঞ্চলকে সংযুক্ত করেছে।
- প্ৰকল্পটি National Highway Authority of India-ৰ তত্ত্বাবধানৰ অন্তৰ্গত।

নীচৰ কোন উক্তিটি/উক্তিগুলি সঠিক ?

- (A) কেৱলমাত্ৰ 1 এবং 2 (B) কেৱলমাত্ৰ 1  
(C) কেৱলমাত্ৰ 2 এবং 3 (D) কেৱলমাত্ৰ 2



22. Z-Morh টানেল (স'নামার্গ টানেল)খঁ লানানৈ বঁনায গাহায়নি বিবঁথিখঁ নোজোর হো :

1. বেযো জজিলা টানেল প্রজেক্টনি মনসে বাহাগো।
2. 6.5 কি.মি. গোলাব বে টানেলা জম্মু আরো কাশ্মিরাব গাগাংগির আরো স'নামার্গ আনসোলখঁ ফোনাংজাবো।
3. ববে প্রজেক্টখঁ সামলায়দোঁ নেশনেল হাইবে অথরিটি অফ ইন্ডিয়ায়া।

গোজঁবাব হোনায় ববে বিবঁথি/বিবঁথিফোরা গেবঁ?

- (A) 1 আরো 2 আল' (B) 1 আল'  
(C) 2 আরো 3 আল' (D) 2 আল'

22. Consider the following statements regarding the Z-Morh Tunnel (Sonamarg Tunnel) :

1. It is a part of Zojila Tunnel Project.
2. The 6.5 km long tunnel connects Gagangir and Sonamarg region in Jammu and Kashmir.
3. The project comes under the supervision of the National Highways Authority of India.

Which of the statements given above is/are correct?

- (A) 1 and 2 only (B) 1 only  
(C) 2 and 3 only (D) 2 only

23. ভাৰতৰ প্ৰথম এ. আই. (AI) নগৰ কোনখন ?

- (A) কলকাতা (B) লক্ষ্ণৌ  
(C) দিল্লী (D) বেঙ্গালুৰু

23. ভারতের প্রথম এ. আই. (AI) নগর কোনটি ?

- (A) কলকাতা (B) লক্ষ্ণৌ  
(C) দিল্লী (D) বেঙ্গালুৰু

23. গাহায়নি ববেয়া ভারতনি গিবি AI সहर?

- (A) কলকাতা (B) লক্ষনত  
(C) দিল্লী (D) বেঙ্গালুৰু

23. Which of the following is the first AI city in India?

- (A) Kolkata (B) Lucknow  
(C) Delhi (D) Bengaluru

24. 'কোপাইলট+' (Copilot+) কম্পিউটার, য'ত AI-প্রযুক্তিৰ দ্বাৰা অনন্য 'ৰিকল' (Recall) ব্যৱহাৰ সুবিধা আছে, কোনটো প্রযুক্তি কোম্পানীয়ে বনাইছিল ?

- (A) এলফাবেট (B) এপেল  
(C) এচাৰ (D) মাইক্র'সফট

24. কোন প্রযুক্তি কোম্পানী এ. আই. (AI)-উন্নত কাৰ্যকাৰিতা এবং অনন্য পুনরাহ্বান (Recall) বৈশিষ্ট্যযুক্ত 'কোপাইলট+' (Copilot+) কম্পিউটার চালু করেছে ?

- (A) অ্যালফাবেট (B) অ্যাপেল  
(C) এসাৰ (D) মাইক্রোসফট



24. 'Copilot+' কম্পিউটার, জেরাৰ AI-আদৰনি গেজেৰজোঁ গুৰুন 'Recall' ৰাহানি খাৰুং দং, বেখৌ বৰে কম্পানিয়া বানায়দোঁ?
- (A) এলফাৰেট (B) আপেল  
(C) এসাৰ (D) মাইক্ৰ'সফট

24. Which tech company has launched 'Copilot+' PCs with AI-enhanced functionality and a unique 'Recall' feature?
- (A) Alphabet (B) Apple  
(C) Acer (D) Microsoft

- 
25. গ্ৰীণ অস্কাৰ (ছ'ইটলী গ'ল্ড বাঁটা), 2024 কোনে লাভ কৰিছিল ?

- (A) বমন সুকুমাৰ (B) বৃন্দা দেৱী  
(C) কৃষ্ণামূৰ্তী (D) ড० পূৰ্ণিমা দেৱী বৰ্মন

25. গ্ৰীণ অস্কাৰ (ছ'ইটলি গোল্ড পুৰস্কাৰ), 2024 কে লাভ কৰেছিলেন ?

- (A) বমন সুকুমাৰ (B) বৃন্দা দেৱী  
(C) কৃষ্ণমূৰ্তি (D) ড. পূৰ্ণিমা দেৱী বৰ্মন

25. সোৱ Green Oscar (Whitley Gold বান্ধা), 2024 খৌ আজাবদোঁমোন?

- (A) বমন সুকুমাৰ (B) বৃন্দা দেৱী  
(C) কৃষ্ণমূৰ্তি (D) ড० পূৰ্ণিমা দেৱী বৰ্মন

25. Who received the Green Oscar (Whitley Gold Award), 2024?

- (A) Raman Sukumar (B) Brindha Devi  
(C) Krishnamoorthy (D) Dr. Purnima Devi Barman

- 
26. কোন সংস্থাৰ শিশু পুষ্টি প্ৰতিবেদন, 2024 প্ৰকাশ কৰিছিল ?

- (A) WHO (B) UNICEF  
(C) UNDP (D) World Bank

26. কোন সংস্থাৰ শিশু পুষ্টি প্ৰতিবেদন, 2024 প্ৰকাশ কৰেছিল ?

- (A) WHO (B) UNICEF  
(C) UNDP (D) World Bank

26. বৰে গৌথুমা Child Nutrition Report, 2024 খৌ বাবৈসো ফোসাবদোঁ?

- (A) WHO (B) UNICEF  
(C) UNDP (D) World Bank

26. Which organization released the Child Nutrition Report, 2024?

- (A) WHO (B) UNICEF  
(C) UNDP (D) World Bank





27. বিশ্ব সংবাদ স্বাধীনতা সূচকাংক, 2024ৰ মতে 180খন দেশৰ ভিতৰত ভাৰতৰ স্থান কিমান ?  
(A) 159 (B) 152 (C) 150 (D) 161
27. বিশ্ব সংবাদ স্বাধীনতা সূচকাংক, 2024 অনুযায়ী 180টি দেশৰ মध्ये ভাৰতৰ স্থান কত ?  
(A) 159 (B) 152 (C) 150 (D) 161
27. World Press Freedom Index, 2024 আৰ, 180 হাৱৰফোৱনি মাৰাৱ ভাৰতনি মাৰিয়া মা?  
(A) 159 (B) 152 (C) 150 (D) 161
27. In the World Press Freedom Index, 2024, what is India's rank among 180 countries?  
(A) 159 (B) 152 (C) 150 (D) 161

- 
28. 'জাতীয় কেনচাৰ সচেতনতা দিৱস' কেতিয়া পালন কৰা হয় ?  
(A) নৱেম্বৰ 9 (B) নৱেম্বৰ 7  
(C) নৱেম্বৰ 5 (D) নৱেম্বৰ 3
28. 'জাতীয় ক্যান্সাৰ সচেতনতা দিৱস' কবে পালন কৰা হয় ?  
(A) নভেম্বৰ 9 (B) নভেম্বৰ 7  
(C) নভেম্বৰ 5 (D) নভেম্বৰ 3
28. 'কেন্সাৰ সাংগ্ৰাথি সান'খৌ মাৰ্লা ফালিয়ো?  
(A) 9 নভেম্বৰ (B) 7 নভেম্বৰ  
(C) 5 নভেম্বৰ (D) 3 নভেম্বৰ
28. When is 'National Cancer Awareness Day' observed?  
(A) November 9 (B) November 7  
(C) November 5 (D) November 3

- 
29. প্রতি বছৰে 'জোনবিল মেলা' (Jonbeel Mela) কোনখন জিলাত অনুষ্ঠিত হয় ?  
(A) মৰিগাঁও (B) বাক্সা  
(C) চিৰাং (D) গোলাঘাট
29. প্রতি বছর 'জোনবিল মেলা' কোন্ জেলায় অনুষ্ঠিত হয় ?  
(A) মরিগাঁও (B) বাক্সা  
(C) চিরাং (D) গোলাঘাট



29. बोसोरफ्रोमबो 'जनबिल मेला' (Jonbeel Mela) खौ माबे जिलायाव खुंफुंनाय जायो?

- (A) मरिगाव (B) बाकसा  
(C) चिरां (D) ग'लाघाट

29. In which of the following districts is the 'Jonbeel Mela' held every year?

- (A) Morigaon (B) Baksa  
(C) Chirang (D) Golaghat

30. 'शिल्ली दिवस' केतिया उदयापन कबा ह्य ?

- (A) 25 जानुवारीत (B) 21 मेत  
(C) 17 जानुवारीत (D) 14 नरेम्बत

30. 'शिल्ली दिवस' कबे उदयापित ह्य ?

- (A) 25शे जानुवारी (B) 21शे मे  
(C) 17ई जानुवारी (D) 14ई नरेम्बर

30. 'शिल्पी दिवस' खौ माल्ला फालिनाय जायो?

- (A) 25 जानुवारीयाव (B) 21 मेयाव  
(C) 17 जानुवारीयाव (D) 14 नरेम्बराव

30. 'Silpi Divas' is celebrated on

- (A) 25th January (B) 21st May  
(C) 17th January (D) 14th November

31. 'असम राजिक संग्रहालय' टो क'त अरक्षित ?

- (A) गुवाहाटीत (B) शिवसागरत  
(C) नगाँत (D) योराहाटत

31. 'असम राजिक संग्रहालय' टि कोथाय अरक्षित ?

- (A) गुवाहाटीते (B) शिवसागरे  
(C) नगाँ-ए (D) योराहाटे

31. 'आसाम हादाबसा दोनथुमसालि' या माबेयाव दं?

- (A) गुवाहाटी (B) शिवसागर  
(C) नगाव (D) जरहाट

31. Where is the 'Assam State Museum' located?

- (A) Guwahati (B) Sivasagar  
(C) Nagaon (D) Jorhat



32. ASTC-ৰ অৰ্থ হ'ল

- (A) আছাম ষ্টেট ট্ৰেডিং কৰ্পোৰেচন (B) আছাম ষ্টেট টেকন'ল'জী কমিচন  
(C) আছাম ষ্টেট ট্ৰেন্সপ'ৰ্ট কৰ্পোৰেচন (D) আছাম ষ্টেট ট্ৰেভেল কৰ্পোৰেচন

32. ASTC-এৰ অৰ্থ হলো

- (A) আসাম স্টেট ট্ৰেডিং কৰ্পোৰেশ্বন (B) আসাম স্টেট টেকনোলজী কমিশ্বন  
(C) আসাম স্টেট ট্ৰান্সপোর্ট কৰ্পোৰেশ্বন (D) আসাম স্টেট ট্ৰাভেল কৰ্পোৰেশ্বন

32. ASTC নি আঁথিয়া জাৰ্দোঁ

- (A) আসাম স্টেট ট্ৰেডিং কৰপেৰসন (B) আসাম স্টেট টেকন'লজী কমিচন  
(C) আসাম স্টেট ট্ৰেন্সপ'ৰ্ট কৰপেৰসন (D) আসাম স্টেট ট্ৰেভেল কৰপেৰসন

32. ASTC stands for

- (A) Assam State Trading Corporation (B) Assam State Technology Commission  
(C) Assam State Transport Corporation (D) Assam State Travel Corporation

33. নিম্নলিখিতসমূহৰ কোনটো এটা নিষ্ক্ৰিয় গেছ নহয় ?

- (A) আৰ্গন (B) হিলিয়াম  
(C) নিয়ন (D) নাইট্ৰ'জেন

33. নিম্নে উল্লিখিত কোনটি নিষ্ক্ৰিয় গ্যাস নয় ?

- (A) আৰ্গন (B) হিলিয়াম  
(C) নিয়ন (D) নাইট্ৰোজেন

33. গাহায়নি বৰে মনসেয়া অৰজাবৰোডি গেস (inert gas) নডা?

- (A) আৰ্গন (B) হিলিয়াম  
(C) নিয়ন (D) নাইট্ৰ'জেন

33. Which of the following is **not** an inert gas?

- (A) Argon (B) Helium  
(C) Neon (D) Nitrogen

34. 1894 চনত অসমৰ কৃষক বিদ্ৰোহ কোন ঠাইত সংঘটিত হৈছিল ?

- (A) গহপুৰ (B) ইয়াণ্ডাবু  
(C) পথৰুঘাট (D) ঢেকিয়াজুলি

34. 1894 সালে আসামেৰ কৃষক বিদ্ৰোহ কোন স্থানে সংঘটিত হয়েছিল ?

- (A) গহপুৰ (B) ইয়ান্দাবু  
(C) পাথারুঘাট (D) ঢেকিয়াজুলি



34. 1894 मायथाइनि आसामनि आबादारि जांख्रिखानाया बहा जादोमोन?  
(A) गहपुर (B) इयान्दाबु  
(C) पाथरुघाट (D) ढेकियाजुलि

34. The Peasant Uprising of Assam in 1894 took place at  
(A) Gohpur (B) Yandaboo  
(C) Patharughat (D) Dhekiajuli

35. पूरुषब आई. चि. चि. T20 विश्वकाप, 2024त कोने श्रेष्ठ खेलुरैब पूरुषबाब लाड कबिछिल ?  
(A) सूर्यकुमार यादव (B) ट्रेडिस हे'द  
(C) जसप्रित बुमबाह (D) इयाब एजनओ नहय

35. पूरुषदेर आई. सि. सि. T20 विश्वकाप, 2024-ए के सर्वश्रेष्ठ खेलोयाडेरे पूरुषबाब जितेछिलेन ?  
(A) सूर्यकुमार यादव (B) ट्रेडिस हेड  
(C) जसप्रित बुमरा (D) एँदेर केडई नन

35. हौवाफोरनि ICC T20 World Cup, 2024 आव सोर साबसिन गेलेगिरिनि बान्थाखौ मोनदोमोन?  
(A) सूर्यकुमार यादव (B) ट्रेडिस हेड  
(C) जसप्रित बुमराह (D) बिसोरनि सासेबो नडा

35. Who won the best player award in the ICC Men's T20 World Cup, 2024?  
(A) Suryakumar Yadav (B) Travis Head  
(C) Jasprit Bumrah (D) None of them

36. 2034 चनर फिफा विश्वकाप क'त अनुष्ठित ह'व ?  
(A) स्पेइन (B) सौदि आरब  
(C) कानाडा (D) एँबोबर कोनोटोरेई नहय

36. 2034 सालेर फिफा विश्वकाप कोथाय अनुष्ठित हवे ?  
(A) स्पेन (B) सौदि आरब  
(C) कानाडा (D) एँगुलिर कोनोटिई नय

36. 2034 नि FIFA वर्ल्ड कापा बबेयाव जागोन?  
(A) स्पेइन (B) सौदि आरबिया  
(C) कानादा (D) बेफोरनि मोनसेबो नडा

36. Where will the 2034 FIFA World Cup be held?  
(A) Spain (B) Saudi Arabia  
(C) Canada (D) None of these



37. কোন দেশে 'ষ্টেণ্ডাৰ্ড মিছাইল-6' (এছ. এম.-6) উদ্ভাৱন কৰিছিল ?
- (A) আমেৰিকা (B) জাপান  
(C) ভাৰত (D) চীন
37. স্ট্যান্ডাৰ্ড মিসাইল-6 (এস. এম.-6) কোন দেশ উদ্ভাবন কৰেছিল ?
- (A) আমেৰিকা (B) জাপান  
(C) ভাৰত (D) চীন
37. Standard Missile-6 (SM-6) খ্ৰী বৰে হাদৰা দিহুনদাঁমোন?
- (A) আমেৰিকা (B) জাপান  
(C) ভাৰত (D) চীন
37. Standard Missile-6 (SM-6) was developed by which country?
- (A) USA (B) Japan  
(C) India (D) China

- 
38. পি. এম.-সূৰজ পৰ্টেল কোন মন্ত্ৰালয়ৰ দ্বাৰা ৰূপায়ণ কৰা হৈছে ?
- (A) গ্ৰাম্য বিকাশ মন্ত্ৰালয়  
(B) নতুন আৰু নবীকৰণীয় শক্তি মন্ত্ৰালয়  
(C) সামাজিক ন্যায় আৰু সবলীকৰণ মন্ত্ৰালয়  
(D) গৃহ নিৰ্মাণ আৰু নগৰ প্ৰাধিকৰণ মন্ত্ৰালয়
38. প্ৰধানমন্ত্ৰী-সূৰজ পোৰ্টাল (PM-SURAJ Portal) কোন মন্ত্ৰালয়ৰ দ্বাৰা পৰিচালনা কৰা হয় ?
- (A) গ্ৰাম্য বিকাশ মন্ত্ৰালয়  
(B) নতুন আৰু নবীকৰণযোগ্য শক্তি মন্ত্ৰালয়  
(C) সামাজিক ন্যায় আৰু সবলীকৰণ মন্ত্ৰালয়  
(D) গৃহ নিৰ্মাণ আৰু নগৰ প্ৰাধিকৰণ মন্ত্ৰালয়
38. PM-SURAJ Portal আ বৰে Ministry জাঁ বাহায়জাদাঁ?
- (A) Ministry of Rural Development  
(B) Ministry of New and Renewable Energy  
(C) Ministry of Social Justice and Empowerment  
(D) Ministry of Housing and Urban Affairs
38. PM-SURAJ Portal is implemented by which Ministry?
- (A) The Ministry of Rural Development  
(B) The Ministry of New and Renewable Energy  
(C) The Ministry of Social Justice and Empowerment  
(D) The Ministry of Housing and Urban Affairs



39. 2024 চনৰ আই. পি. এল. প্রতিযোগিতাত কোনে 'অৰেঞ্জ কেপ' লাভ কৰিছিল ?  
(A) অভিষেক শৰ্মা (B) বিৰাট কোহলি  
(C) ৰিংকু সিং (D) ইয়াৰ এজনো নহয়

39. 2024 সালের আই. পি. এল. প্রতিযোগিতায় কে 'অরেঞ্জ কাপ' লাভ কৰেছিল ?  
(A) অভিষেক শৰ্মা (B) বিৰাট কোহলি  
(C) ৰিংকু সিং (D) এঁদের কেউই নন

39. सोर गेलेगिरिया IPL, 2024 नि 'Orange Cap' खौ देरहादोंमोन?  
(A) अभिषेक शर्मा (B) विरट कोहली  
(C) रिंगु सिं (D) बिसोरनि सासेबो नडा

39. Which player won the Orange Cap in IPL, 2024?  
(A) Abhishek Sharma (B) Virat Kohli  
(C) Rinku Singh (D) None of them

---

40. 2025-2026ত কোন খণ্ডই আটাইতকৈ বেছি বাজেটৰ অংশ লাভ কৰিছে ?  
(A) শিক্ষা (B) গ্রাম্য বিকাশ  
(C) ভাৰতীয় ৰেল (D) প্ৰতিৰক্ষা

40. কোন খাতে 2025-2026 সালের সাধাৰণ বাজেটে সবথেকে বেশি অংশ ধাৰ্য কৰা হৈছে ?  
(A) শিক্ষা (B) গ্রাম্য বিকাশ  
(C) ভাৰতীয় ৰেল (D) প্ৰতিৰক্ষা

40. বৰে খনদোআ (Sector) 2025-2026 নি বাজেটাব বয়নিখুই বাঁসিন বাহাগো মোন্দোঁ?  
(A) সোলোঁথাই (B) গামি জৌগাখানায  
(C) ভাৰতীয় ৰেল (D) ইখাথি

40. Which sector has received the highest allocation in the Budget for 2025-2026?  
(A) Education (B) Rural Development  
(C) Indian Railways (D) Defence



41. যদি এটা ত্ৰিভুজৰ ভূমি উন্নতিৰ দুগুণ আৰু উন্নতিৰ মান  $2x$  একক হয়, তেন্তে ত্ৰিভুজটোৰ কালি হ'ব
- (A)  $8x^2$  বৰ্গ একক (B)  $2x^2$  বৰ্গ একক  
(C)  $x^2$  বৰ্গ একক (D)  $4x^2$  বৰ্গ একক
41. যদি এটা ত্ৰিভুজৰ ভূমি তাৰ উন্নতিৰ দ্বিগুণ এবং উন্নতিৰ মান  $2x$  একক হয়, তাহলে ত্ৰিভুজটিৰ ক্ষেত্রফল হবে
- (A)  $8x^2$  বৰ্গ একক (B)  $2x^2$  বৰ্গ একক  
(C)  $x^2$  বৰ্গ একক (D)  $4x^2$  বৰ্গ একক
41. মোনসে আখ্ৰান্থিথামনি হাসানি জখ্ৰায়া জৌথাইনি নৈ গুন। জেব্বা জৌথাইনি মানা  $2x$  সানগুদি জায়ো, अब्बला आख्खान्थिथामनि कालिया जागोन
- (A)  $8x^2$  বৰ্গ সানগুদি (B)  $2x^2$  বৰ্গ সানগুদি  
(C)  $x^2$  বৰ্গ সানগুদি (D)  $4x^2$  বৰ্গ সানগুদি
41. If the base of a triangle is twice its altitude and the altitude is  $2x$  unit, then the area of the triangle is
- (A)  $8x^2$  sq. unit (B)  $2x^2$  sq. unit  
(C)  $x^2$  sq. unit (D)  $4x^2$  sq. unit

42. তলৰ কোনটো এটা ত্ৰিভুজৰ তিনিটা বাহুৰ জোখ হ'ব নোৱাৰে ?
- (A) 5 ছেঃমিঃ, 10 ছেঃমিঃ, 6 ছেঃমিঃ (B) 14 ছেঃমিঃ, 7 ছেঃমিঃ, 8 ছেঃমিঃ  
(C) 10 ছেঃমিঃ, 20 ছেঃমিঃ, 8 ছেঃমিঃ (D) 30 ছেঃমিঃ, 20 ছেঃমিঃ, 12 ছেঃমিঃ
42. নীচের কোন মাপটি একটি ত্ৰিভুজের তিনটি বাহুর মাপ হতে পারে না ?
- (A) 5 সেঃমিঃ, 10 সেঃমিঃ, 6 সেঃমিঃ (B) 14 সেঃমিঃ, 7 সেঃমিঃ, 8 সেঃমিঃ  
(C) 10 সেঃমিঃ, 20 সেঃমিঃ, 8 সেঃমিঃ (D) 30 সেঃমিঃ, 20 সেঃমিঃ, 12 সেঃমিঃ
42. গাহায়নি বৰে মোনসেয়া মোনসে আখ্ৰান্থিথামনি মোনথাম আখ্ৰান্থিনি জখ্ৰা জানো হায়া?
- (A) 5 সেং মিং, 10 সেং মিং, 6 সেং মিং (B) 14 সেং মিং, 7 সেং মিং, 8 সেং মিং  
(C) 10 সেং মিং, 20 সেং মিং, 8 সেং মিং (D) 30 সেং মিং, 20 সেং মিং, 12 সেং মিং
42. Which of the following **cannot** be the measures of three sides of a triangle?
- (A) 5 cm, 10 cm, 6 cm (B) 14 cm, 7 cm, 8 cm  
(C) 10 cm, 20 cm, 8 cm (D) 30 cm, 20 cm, 12 cm

43. “দুটা ক্ৰমিক অযুগ্ম সংখ্যাৰ যোগফল 48.” এই উক্তিটো প্ৰকাশ কৰিব পৰা সমীকৰণটো হ'ল
- (A)  $(x-1)(x-2)=48$  (B)  $x(x-1)=48$   
(C)  $x(x-2)=48$  (D)  $(x-1)(x+2)=48$
43. “দুটি ক্ৰমিক অযুগ্ম সংখ্যাৰ যোগফল হ'ল 48.” এই উক্তিটি নীচের কোন সমীকরণে প্ৰকাশ হ'ছে ?
- (A)  $(x-1)(x-2)=48$  (B)  $x(x-1)=48$   
(C)  $x(x-2)=48$  (D)  $(x-1)(x+2)=48$



43. “मोननै फारि बेजरा अनजिमानि दाजाबथाइया 48.” बे बिबुंथिखौ फोरमायनो हानाय समान्थाइया जादों

- (A)  $(x - 1)(x - 2) = 48$   
(C)  $x(x - 2) = 48$

- (B)  $x(x - 1) = 48$   
(D)  $(x - 1)(x - 2) = 48$

43. “The sum of two consecutive odd numbers is 48.” This statement can be expressed in equation as

- (A)  $(x - 1)(x - 2) = 48$   
(C)  $x(x - 2) = 48$

- (B)  $x(x - 1) = 48$   
(D)  $(x - 1)(x - 2) = 48$

44.  $x$ -अक्ष आरु  $y = 2$   $0$  रेखाडालर माजर दूरतु किमान ?

- (A) 2 एकक  
(C) 4 एकक

- (B) 3 एकक  
(D) 1 एकक

44.  $x$ -अक्ष एवंग  $y = 2$   $0$  रेखाडालर मधेर दूरतु कत ?

- (A) 2 एकक  
(C) 4 एकक

- (B) 3 एकक  
(D) 1 एकक

44.  $x$ -बिथ' आरो  $y = 2$   $0$  हांखोनि गेजेरनि जानथाइया बेसेबां?

- (A) 2 सानगुदि  
(C) 4 सानगुदि

- (B) 3 सानगुदि  
(D) 1 सानगुदि

44. What is the distance between the  $x$ -axis and the line  $y = 2$   $0$ ?

- (A) 2 units  
(C) 4 units

- (B) 3 units  
(D) 1 unit

45. 1289 र लगत कि न्यूनतम संख्या योग करिले ई एटा पूर्णवर्ग संख्या ह'व ?

- (A) 1 (B) 7 (C) 13 (D) 16

45. 1289-एर सङ्गे सर्वनिम्न कौन संख्याटि योग करले एटि एकटि पूर्णवर्ग संख्या हवे ?

- (A) 1 (B) 7 (C) 13 (D) 16

45. 1289 जौं मा दुयसिन अनजिमा दाजाबोल्ला मोनसे आबुं बर्ग जागोन?

- (A) 1 (B) 7 (C) 13 (D) 16

45. What is the minimum number to be added to 1289 so that it becomes a perfect square?

- (A) 1 (B) 7 (C) 13 (D) 16

46. एटा सामन्तरिकर भूमि आरु उच्चतार दीघ क्रमे 5 cm आरु 3 cm. सामन्तरिकटोब कालि उलिओरा ।

- (A)  $30 \text{ cm}^2$  (B)  $15 \text{ cm}^2$   
(C)  $7.5 \text{ cm}^2$  (D) 15 cm

46. एकटि सामन्तरिकर भूमि एवंग उच्चता क्रमे 5 cm एवंग 3 cm. सामन्तरिकटि र क्षेत्रफल निर्णय करो ।

- (A)  $30 \text{ cm}^2$  (B)  $15 \text{ cm}^2$   
(C)  $7.5 \text{ cm}^2$  (D) 15 cm





46. मोनसे लिंगदब्लाइन हासा आरो जौथाइन गोलावा फारियै 5 cm आरो 3 cm. लिंगदब्लाइन कालि दिहुन।
- (A)  $30 \text{ cm}^2$  (B)  $15 \text{ cm}^2$   
(C)  $7.5 \text{ cm}^2$  (D) 15 cm
46. The base and height of a parallelogram are 5 cm and 3 cm respectively. Find the area of the parallelogram.
- (A)  $30 \text{ cm}^2$  (B)  $15 \text{ cm}^2$   
(C)  $7.5 \text{ cm}^2$  (D) 15 cm
- 

47. বছৰি 10% সবল সুতৰ হাৰত কোনো মূলধন কিমান বছৰত দুগুণ হ'ব ?
- (A) 2 বছৰত (B) 5 বছৰত  
(C) 10 বছৰত (D) 20 বছৰত
47. বাৎসৰিক 10% সরল সুদেৰ হাৰে কোনো এক মূলধন কত বছৰে দ্বিগুণ হবে ?
- (A) 2 বছৰে (B) 5 বছৰে  
(C) 10 বছৰে (D) 20 বছৰে
47. बोसोराव 10% गोरलै सुदनि हाराव मोनसे गिबि दोहोना बेसेबां बोसोराव फाननै जागोन?
- (A) 2 बोसोराव (B) 5 बोसोराव  
(C) 10 बोसोराव (D) 20 बोसोराव
47. In how many years will a sum of money be doubled itself at a simple interest of 10% p.a.?
- (A) 2 years (B) 5 years  
(C) 10 years (D) 20 years
- 

48. A आरु B ये यथाक्रमे 10,000 टका आरु 6,400 टका दि एटा अंशीदारी ब्यरसाय आरुणु कबिले । 5 माहब पिछत A ये 3,000 टका उठ्ठी ल'ले आरु B ये तेठ्ठे अंशब लगत आरु 600 टका योग दिले । B ये सक्रिय अंशीदार हिचापे बार्शिक लाभर 10% बेतन हिचापे लाभ करे । एवछरब मुबत मुठ्ठे लाभ 16,000 टका ह'ले B ब लाभांश किमान ह'ब ?
- (A) 6,480 टका (B) 7,920 टका  
(C) 8,080 टका (D) एहिवोबब एटाओ नहय
48. A एवं B यथाक्रमे 10,000 टका एवं 6,400 टका दिसे एकाटि अंशीदारी ब्यवसा शुरु करे । 5 मासेर पर A 3,000 टका तुले नेय एवं B निजेर विनियोजित टकाते आरो 600 टका योग करे । B सक्रिय अंशीदार हिसेबे बार्शिक लाभेर 10% बेतन हिसेबे पाय । एक बंसर पर मोट लाभ 16,000 टका हले B-एर लभांश कत हवे ?
- (A) 6,480 टका (B) 7,920 टका  
(C) 8,080 टका (D) एगुलिर एकाटिओ नय



48. A আরো B আ ফারিযৈ 10,000 রাং আরো 6,400 রাং হোনাই মোনসে বাহাগোদারি ফালাংগি জাগায়জেনবায়। 5 দাননি উনাব A আ 3,000 রাং বোখাংনা লাংবায় আরো B আ গাবনি বাহাগোজোঁ আরো 600 রাং দাজাববায়। B আ মাবসুলা বাহাগোগিরি মহরৈ বোসোরারি মুলাম্ফানি 10% দানবান্থা মহরৈ মোনবায়। বোসোরসেইনি উনাব গাসৈ মুলাম্ফায়া 16,000 রাং জায়োব্লা, B নি মুলাম্ফানি বাহাগোআ বেসেবাং জাগোন?
- (A) 6,480 রাং (B) 7,920 রাং  
(C) 8,080 রাং (D) বেফোরনি মোনসেবো নডা
48. A and B started a partnership business investing ₹ 10,000 and ₹ 6,400 respectively. After 5 months, A withdrew ₹ 3,000 and B added ₹ 600 to their investment. Being active partner, B gets 10% of the annual profit as salary. If the profit at the end of one year is ₹ 16,000, the share of profit of B will be
- (A) ₹ 6,480 (B) ₹ 7,920  
(C) ₹ 8,080 (D) None of these

49. মান নির্ণয় কৰা :

$$\frac{2}{3} \quad \frac{1}{3} \quad 2\frac{2}{9}$$

(A)  $\frac{11}{9}$  (B)  $\frac{11}{9}$  (C)  $\frac{17}{9}$  (D)  $\frac{17}{9}$

49. মান নির্ণয় কৰো :

$$\frac{2}{3} \quad \frac{1}{3} \quad 2\frac{2}{9}$$

(A)  $\frac{11}{9}$  (B)  $\frac{11}{9}$  (C)  $\frac{17}{9}$  (D)  $\frac{17}{9}$

49. মান দিহুন :

$$\frac{2}{3} \quad \frac{1}{3} \quad 2\frac{2}{9}$$

(A)  $\frac{11}{9}$  (B)  $\frac{11}{9}$  (C)  $\frac{17}{9}$  (D)  $\frac{17}{9}$

49. Find the value of

$$\frac{2}{3} \quad \frac{1}{3} \quad 2\frac{2}{9}$$

(A)  $\frac{11}{9}$  (B)  $\frac{11}{9}$  (C)  $\frac{17}{9}$  (D)  $\frac{17}{9}$

50. তলৰ সংখ্যাকেইটাৰ মধ্যমা নির্ণয় কৰা :

$$32, 32, 34, 35, 35, 38, 42$$

(A) 32 (B) 38 (C) 35 (D) 42

50. নিম্নোক্ত সংখ্যাগুলিৰ মধ্যমা নির্ণয় কৰো :

$$32, 32, 34, 35, 35, 38, 42$$

(A) 32 (B) 38 (C) 35 (D) 42



50. गाहायनि अनजिमाफोरनि गेजेरमा (Median) दिहनु :

32, 32, 34, 35, 35, 38, 42

(A) 32 (B) 38 (C) 35 (D) 42

50. Find the median of the following numbers :

32, 32, 34, 35, 35, 38, 42

(A) 32 (B) 38 (C) 35 (D) 42

51. शतकबा बहबि 10% चक्रबुद्धि सुतत 100 टका 2 बहबब मूबत मुठ परिमाण ह'बगै

(A) 121 टका (B) 221 टका  
(C) 111.21 टका (D) 121.21 टका

51. 100 टका 2 बसस बाससरिक 10% चक्रबुद्धि हारे बरिथत हले मोट सधिगत धनराशिर परिमाण हबे

(A) 121 टका (B) 221 टका  
(C) 111.21 टका (D) 121.21 टका

51. बोसोराब 10% हाराब 100 रानि बोसोर 2 नि बारायन्नायनाय सुदा जागोन

(A) 121 रं (B) 221 रं  
(C) 111.21 रं (D) 121.21 रं

51. The amount on compound interest of ₹ 100 for 2 years at the rate of 10% per annum is

(A) ₹ 121 (B) ₹ 221  
(C) ₹ 111.21 (D) ₹ 121.21

52. यदि  $p$  आक  $q$  ब ग.सा.उ. आक ल.सा.गु. यथाक्रमे  $r$  आक  $s$  हय, तेन्ते  $p, q, r$  आक  $s$  ब ल.सा.गु. हेहे ( $p, q$  स्वाभाविक संख्या)

(A)  $pq$  (B)  $qr$  (C)  $sp$  (D)  $s$

52.  $p$  एबं  $q$  एर ग.सा.गु. एबं ल.सा.गु. यथाक्रमे  $r$  एबं  $s$  हले,  $p, q, r$  एबं  $s$  एर ल.सा.गु. हबे ( $p, q$  स्वाभाविक संख्या)

(A)  $pq$  (B)  $qr$  (C)  $sp$  (D)  $s$

52.  $p$  आरो  $q$  नि दे० आ० सा० आरो दु० आ० सा० आ फारियै  $r$  आरो  $s$  जायोब्ला,  $p, q, r$  आरो  $s$  नि दु० आ० आ० आ मा जागोन ( $p, q$  मिथिगा अनजिमा)?

(A)  $pq$  (B)  $qr$  (C)  $sp$  (D)  $s$

52. If the HCF and LCM of  $p$  and  $q$  are  $r$  and  $s$  respectively, then the LCM of  $p, q, r$  and  $s$  is ( $p, q$  natural numbers)

(A)  $pq$  (B)  $qr$  (C)  $sp$  (D)  $s$

53. यदि  $x = \frac{1}{x}$  7 हय, तेन्ते  $x^2 = \frac{1}{x^2}$  ब मान ह'ब

(A) 49 (B) 40 (C) 42 (D) 47

53. यदि  $x = \frac{1}{x}$  7 हय, तबे  $x^2 = \frac{1}{x^2}$  एर मान हबे

(A) 49 (B) 40 (C) 42 (D) 47



53. জুদি  $x = \frac{1}{x}$  7 জায়ো, অব্বা  $x^2 = \frac{1}{x^2}$  নি মানা জাগোন  
(A) 49 (B) 40 (C) 42 (D) 47
53. If  $x = \frac{1}{x}$  7, then  $x^2 = \frac{1}{x^2}$  is equal to  
(A) 49 (B) 40 (C) 42 (D) 47

- 
54. 1 ব পৰা 25 লৈকে ক্ৰমিক অযুখ্ম সংখ্যাবোৰৰ যোগফল হৈছে  
(A) 325 (B) 200 (C) 169 (D) 89
54. 1 থেকে 25 পর্যন্ত ক্ৰমিক অযুখ্ম সংখ্যাগুলিৰ যোগফল হল  
(A) 325 (B) 200 (C) 169 (D) 89
54. 1 নিফ্ৰায় 25 সিম থানায বেজরা ফাৰি অনজিমানি দাজাৰগাসৈয়া জাৰ্দোঁ  
(A) 325 (B) 200 (C) 169 (D) 89
54. The sum of the odd consecutive numbers from 1 to 25 is  
(A) 325 (B) 200 (C) 169 (D) 89

- 
55. তলৰ উক্তিগ্ৰুহৰ কোনটো উক্তি শুদ্ধ নহয় ?  
(A) প্রতিটো যুখ্ম (ধনাত্মক) সংখ্যাই এটা স্নাভাৰিক সংখ্যা ।  
(B) আটাইতকৈ সৰু স্নাভাৰিক সংখ্যাটো হ'ল 1.  
(C) 0 এটা পূৰ্ণ সংখ্যা ।  
(D) প্রতিটো স্নাভাৰিক সংখ্যাই এটা যুখ্ম সংখ্যা ।
55. নীচের উক্তিগুলিৰ মধ্যে কোন উক্তিটি শুদ্ধ নয় ?  
(A) প্রতিটি যুখ্ম (ধনাত্মক) সংখ্যা একটি স্নাভাৰিক সংখ্যা ।  
(B) ক্ষুদ্ৰতম স্নাভাৰিক সংখ্যাটি হলো 1.  
(C) 0 একটি পূৰ্ণ সংখ্যা ।  
(D) প্রতিটি স্নাভাৰিক সংখ্যাই একটি যুখ্ম সংখ্যা ।
55. গাহায়নি বুথিফোরনি গেজেৰাব বৰে বুথিয়া গেৰে নহ্না?  
(A) মোনক্রোম জরা (Positive) অনজিমায়া মিথিগা অনজিমা ।  
(B) বয়নিব্বুই দুয়সিন মিথিগা অনজিমায়া 1.  
(C) 0 আ মোনসে আবু অনজিমা ।  
(D) মোনক্রোম মিথিগা অনজিমায়া জরা অনজিমা ।
55. Which one of the following statements is **not** true?  
(A) Each even (positive) number is a natural number.  
(B) The smallest natural number is 1.  
(C) 0 is a whole number.  
(D) Each natural number is an even number.



56. যদি এটা বস্তুর মূল্য 200 টাকা হয় আৰু বেহাই 10% হয়, তেন্তে বস্তুটোৰ বাবে গ্রাহকে দিব লগা ধনৰ পৰিমাণ হ'ব  
(A) 90 টাকা (B) 190 টাকা  
(C) 80 টাকা (D) 180 টাকা
56. যদি এটা বস্তুর দাম 200 টাকা হয় এবং তার উপর 10% ছাড় থাকে, তাহলে বস্তুটি কিনতে ক্রেতাকে কত দাম দিতে হবে ?  
(A) 90 টাকা (B) 190 টাকা  
(C) 80 টাকা (D) 180 টাকা
56. যদি মোনসে মুবানি বেসেনা 200 রাঁ জায়ো আরো 10% रेहाय ज़ायो, मुवानि थ़ाख़्वाय बायग़्राया होनो गोनां बेसेना जागोन  
(A) 90 राँ (B) 190 राँ  
(C) 80 राँ (D) 180 राँ
56. If the price of an article is ₹ 200 and the rebate on it is 10%, then the customer has to pay for this article  
(A) ₹ 90 (B) ₹ 190  
(C) ₹ 80 (D) ₹ 180

- 
57. যদি 460 টাকা আমি 10 জন পুৰুষ, 16 গৰাকী মহিলা আৰু 20টা শিশুৰ মাজত সমানে ভাগ কৰি দিও, তেন্তে প্ৰত্যেকে পোৱা অংশৰ পৰিমাণ হ'ব  
(A) 10 টাকা (B) 16 টাকা  
(C) 20 টাকা (D) 46 টাকা
57. যদি আমরা 460 টাকা 10 জন পুৰুষ, 16 জন মহিলা এবং 20টি শিশুৰ মধ্যে সমান ভাগে ভাগ কৰে দিই, তাহলে প্ৰত্যেকৰ ভাগে কত টাকা আসবে ?  
(A) 10 টাকা (B) 16 টাকা  
(C) 20 টাকা (D) 46 টাকা
57. যদি जॉ सा 10 हौवा मानसि, सा 16 हिनजाव मानसि आरु सा 20 गथ'नि मादाव 460 रांख्रौ समानै रानना होयोब्ला, साफ़्रोमनि बाहागोनि बिबाडा जागोन  
(A) 10 राँ (B) 16 राँ  
(C) 20 राँ (D) 46 राँ
57. If we divide ₹ 460 among 10 men, 16 women and 20 children equally, then the share of each one will be  
(A) ₹ 10 (B) ₹ 16  
(C) ₹ 20 (D) ₹ 46

- 
58. যদি  $2^{2x-1} = 4$  হয়, তেন্তে  $x$  ৰ মান হ'ব  
(A) 1 (B) 2 (C) 3 (D) 4
58. যদি  $2^{2x-1} = 4$  হয়, তাহলে  $x$ -এৰ মান হ'বে  
(A) 1 (B) 2 (C) 3 (D) 4



58. জেব্বা  $2^{2x-1} = 4 \cdot 8$  জায়ো, অব্বা  $x$ নি মানা জাগোন

- (A) 1 (B) 2 (C) 3 (D) 4

58. If  $2^{2x-1} = 4 \cdot 8$ , then the value of  $x$  is

- (A) 1 (B) 2 (C) 3 (D) 4

59. তলৰ কোনটো গাণিতিক উক্তি শুদ্ধ ?

- (A)  $\frac{9}{40} = \frac{3}{20}$  (B)  $\frac{5}{8} = \frac{3}{4}$  (C)  $\frac{7}{6} = \frac{5}{6}$  (D)  $\frac{3}{7} = \frac{9}{28}$

59. নীচের কোন গাণিতিক উক্তিটি শুদ্ধ ?

- (A)  $\frac{9}{40} = \frac{3}{20}$  (B)  $\frac{5}{8} = \frac{3}{4}$  (C)  $\frac{7}{6} = \frac{5}{6}$  (D)  $\frac{3}{7} = \frac{9}{28}$

59. गाहायनि बबे मोनसे सानखान्थिनि बिबुंथिया थार?

- (A)  $\frac{9}{40} = \frac{3}{20}$  (B)  $\frac{5}{8} = \frac{3}{4}$  (C)  $\frac{7}{6} = \frac{5}{6}$  (D)  $\frac{3}{7} = \frac{9}{28}$

59. Which of the following mathematical statements is correct?

- (A)  $\frac{9}{40} = \frac{3}{20}$  (B)  $\frac{5}{8} = \frac{3}{4}$  (C)  $\frac{7}{6} = \frac{5}{6}$  (D)  $\frac{3}{7} = \frac{9}{28}$

60. দুটা পৰিমেয় সংখ্যা  $\frac{a}{b}$  আৰু  $\frac{c}{d}$  সমতুল্য হ'ব, যদিহে

- (A)  $a \cdot b = c \cdot d$  (B)  $a \cdot b = c \cdot d$  (C)  $a \cdot d = b \cdot c$  (D)  $a \cdot d = b \cdot c$

60. দুটি পরিমেয় সংখ্যা  $\frac{a}{b}$  ও  $\frac{c}{d}$  সমতুল্য তখনই হবে, যখন

- (A)  $a \cdot b = c \cdot d$  (B)  $a \cdot b = c \cdot d$  (C)  $a \cdot d = b \cdot c$  (D)  $a \cdot d = b \cdot c$

60. মোননৈ রানজোবথা অনজিমা  $\frac{a}{b}$  আরো  $\frac{c}{d}$  আ সমান জাগোন, জেব্বা

- (A)  $a \cdot b = c \cdot d$  (B)  $a \cdot b = c \cdot d$  (C)  $a \cdot d = b \cdot c$  (D)  $a \cdot d = b \cdot c$

60. Two rational numbers  $\frac{a}{b}$  and  $\frac{c}{d}$  are equivalent if

- (A)  $a \cdot b = c \cdot d$  (B)  $a \cdot b = c \cdot d$  (C)  $a \cdot d = b \cdot c$  (D)  $a \cdot d = b \cdot c$



61. Choose the odd word from the following.

- (A) Agitated (B) Aggressive  
(C) Rowdy (D) Submissive
- 

62. "O my Love's like a red, red rose" is an example of a

- (A) simile (B) metaphor  
(C) metonymy (D) personification
- 

63. What is the meaning of 'cost an arm and leg' ?

- (A) Very expensive (B) War damages  
(C) Total destruction (D) Medical surgery
- 

64. Choose the correct option to fill in the blank in the following sentence :

"He was so hungry that he could \_\_\_\_\_ wait to wash his hands."

- (A) rarely (B) often  
(C) seldom (D) hardly
- 

65. Choose the correct option to fill in the blank in the following sentence :

"Can you tell me \_\_\_\_\_ the truth?"

- (A) why did you not speak (B) that why did you not speak  
(C) why did not you speak (D) why you did not speak
- 

66. Choose the correct option to fill in the blank in the following sentence :

"The train \_\_\_\_\_ before we reached the station."

- (A) had left (B) left  
(C) has left (D) was going to leave
- 

67. Choose the correct article to fill in the blank in the following sentence :

"He is \_\_\_\_\_ MA in English."

- (A) a (B) an  
(C) the (D) No article is needed
- 



68. Choose the correct question tag to complete the following sentence :

“She is going there, \_\_\_\_\_”

- (A) isn't she? (B) is she?  
(C) doesn't she? (D) isn't it?
- 

69. Find the **incorrectly** spelt word.

- (A) Conductor (B) Conductance  
(C) Conduasive (D) Confusing
- 

70. Choose the correct option to fill in the blank in the following sentence :

“When I met Rajat in Mumbai, he \_\_\_\_\_ teaching English for four years.”

- (A) is been (B) has been  
(C) have been (D) had been
- 

71. Fill in the blank of the following sentence with correct option :

“Assam has tremendous potential \_\_\_\_\_ investors in service sector.”

- (A) of (B) in  
(C) at (D) for
- 

72. Choose the correct passive form of the following sentence :

“She is writing a letter.”

- (A) A letter is written by her. (B) A letter has been written by her.  
(C) A letter is being written by her. (D) A letter is writing by her.
- 

73. Choose the correct option to fill in the blank in the following sentence :

“She is \_\_\_\_\_ than any other girl in the class.”

- (A) tall (B) the tallest  
(C) more tall (D) taller
- 

74. Choose the correct indirect speech of the following :

She said, “I have finished the work.”

- (A) She said that she has finished the work.  
(B) She said that she would finish the work.  
(C) She said that she finished the work.  
(D) She said that she had finished the work.
- 





75. Choose the correct option to fill in the blank in the following sentence :

“I asked him \_\_\_\_\_ so lazy.”

- (A) that is why (B) why he was  
(C) that why he is (D) that why is he
- 

76. Choose the correct option to fill in the blank in the following sentence :

“He always claims to be \_\_\_\_\_ everyone in his company.”

- (A) superior than (B) superior to  
(C) superiority over (D) All of these
- 

77. Which of the following is **incorrect** ?

- (A) A swarm of monkeys (B) A caravan of camels  
(C) A pack of wolves (D) A colony of rats
- 

78. Which of the following words is closest in meaning to the word ‘abundant’ ?

- (A) Scarce (B) Difficult  
(C) Barren (D) Ample
- 

79. The phrase ‘stem the tide’ means

- (A) save (B) stop  
(C) touch (D) spare
- 

80. The antonym of the word ‘callous’ is

- (A) casual (B) sensitive  
(C) soulless (D) strict
- 



81. তলৰ শৃংখলাটোৰ প্ৰশ্নবোধক ঠাইত উপযুক্ত সংখ্যাযোৰ বিচাৰি উলিওৱা :

99, 102; 51, 54; 27, 30; ?, ?

- (A) 12, 15 (B) 15, 18 (C) 10, 13 (D) 18, 21

81. নিম্নলিখিত শৃংখলাটিৰ প্ৰশ্নবোধক স্থানে উপযুক্ত সংখ্যাজোড়া খুঁজে বের কৰো :

99, 102; 51, 54; 27, 30; ?, ?

- (A) 12, 15 (B) 15, 18 (C) 10, 13 (D) 18, 21

81. गाहायाव होनाय फारियाव सोमोन्दो गोनां अनजिमा ज'राखौ सायख' :

99, 102; 51, 54; 27, 30; ?, ?

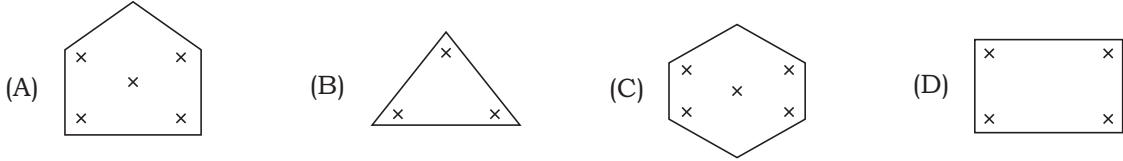
- (A) 12, 15 (B) 15, 18 (C) 10, 13 (D) 18, 21

81. In the following series, select the related number pair :

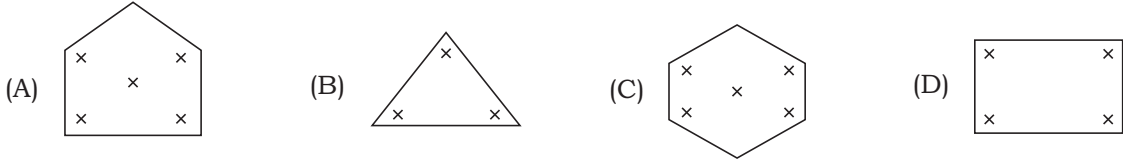
99, 102; 51, 54; 27, 30; ?, ?

- (A) 12, 15 (B) 15, 18 (C) 10, 13 (D) 18, 21

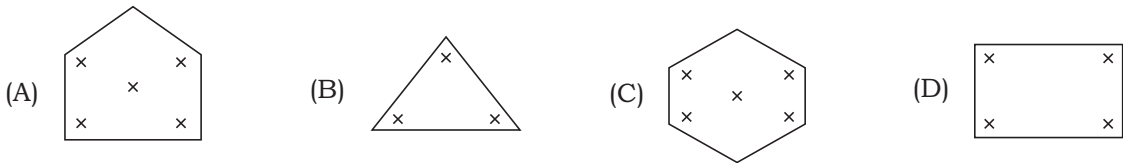
82. তলৰ চিত্ৰবোৰৰ মাজৰ অমিল চিত্ৰটো বাছি উলিওৱা ।



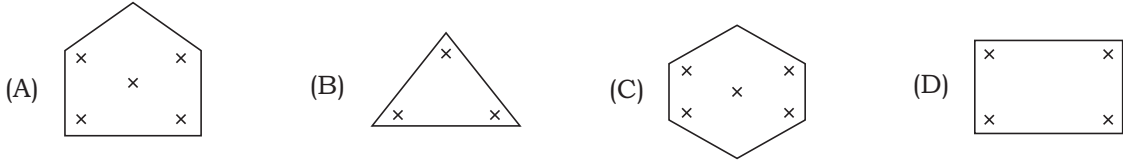
82. নীচৰ চিত্ৰগুলিৰ মध्ये বিসংগতি থাকা চিত্ৰটি বেছে নাও ।



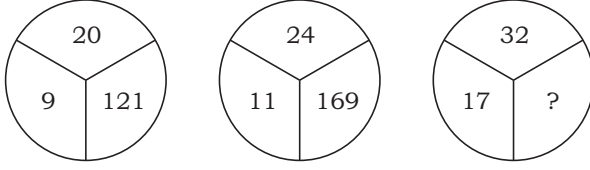
82. गाहायनि सावगारिफोरनि गेजेरनि गोरोबि सावगारिखौ सायख'ना दिहुन।



82. Find the odd figure from the following.

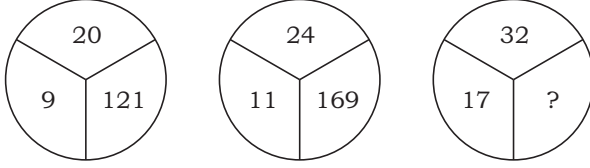


83. তলত দিয়া চিত্ৰসমূহৰ পৰা হেৰুৱা সংখ্যাটো বাছি উলিওৱা :



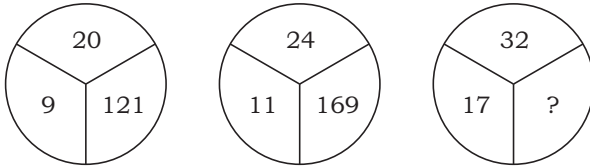
- (A) 125 (B) 175 (C) 225 (D) 150

83. নিম্নোক্ত চিত্ৰগুলি থেকে বিলুপ্ত সংখ্যাটি বেছে বের কৰো :



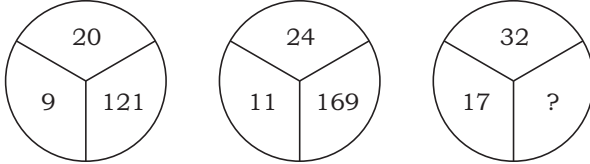
- (A) 125 (B) 175 (C) 225 (D) 150

83. হোনায় সাবগাৰিফোৱনি গেজেৱনিফ্ৰায় গোমানায় অনজিমাখৌ সাযখ' :



- (A) 125 (B) 175 (C) 225 (D) 150

83. Select the missing number in the given diagrams :



- (A) 125 (B) 175 (C) 225 (D) 150

84. তলৰ চিত্ৰবোৰৰ মাজৰ অমিল চিত্ৰটো বাছি উলিওৱা :




84. নীচৰ চিত্ৰগুলিৰ মध्ये বিসংগতি থাকা চিত্ৰটি বেছে নাও :



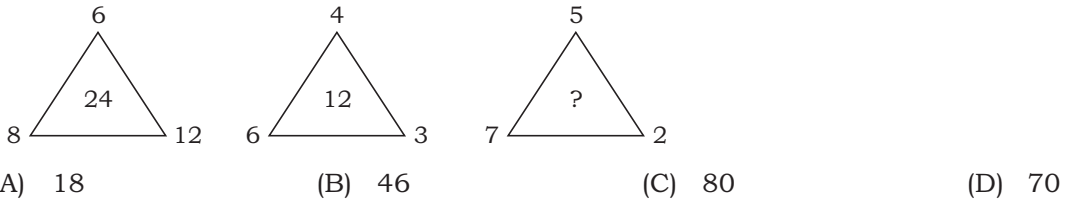
84. गाहायनि सावगारिफोरनि गेजेरनिफ्राय गोरोबि सावगारिखौ सायख'ना दिहुन :



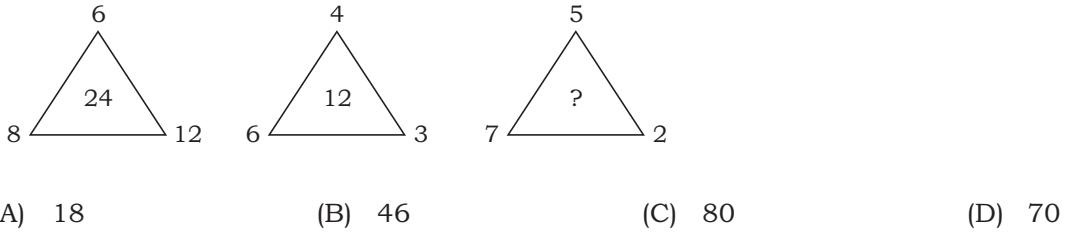
84. Find the odd figure from the following :



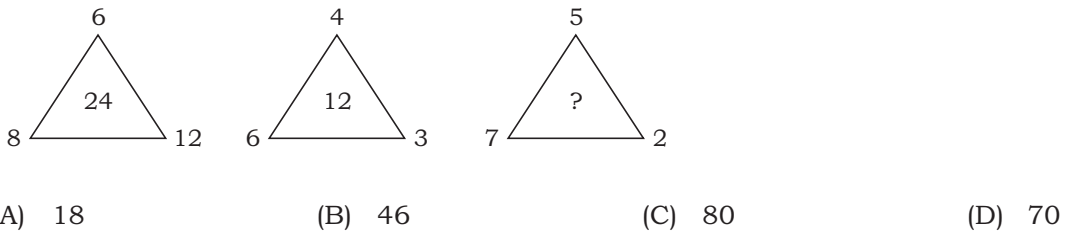
85. তলৰ চিত্ৰবোৰৰ পৰা হেৰুৱা সংখ্যাটো বাছি উলিওৱা :



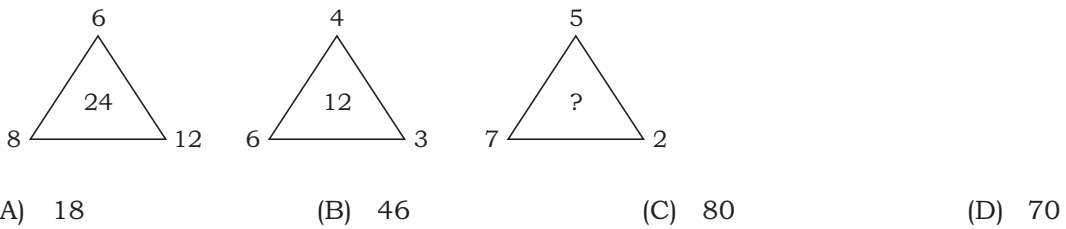
85. প্রদত্ত চিত্ৰগুলি থেকে বিলুপ্ত সংখ্যাটি নির্বাচন করো :



85. होनाय सावगारिफोरनि गेजेरनिफ्राय गोमानाय अनजिमाखौ सायख' :



85. Select the missing number in the given diagrams :



86. যদি 2 3 4 432, 5 6 7 765, 7 8 9 987, তেত্তে 2 5 7 ?  
(A) 572 (B) 752 (C) 725 (D) 257
86. যদি 2 3 4 432, 5 6 7 765, 7 8 9 987, তহলে 2 5 7 ?  
(A) 572 (B) 752 (C) 725 (D) 257
86. জুদি 2 3 4 432, 5 6 7 765, 7 8 9 987, অল্লা 2 5 7 ?  
(A) 572 (B) 752 (C) 725 (D) 257
86. If 2 3 4 432, 5 6 7 765, 7 8 9 987, then 2 5 7 ?  
(A) 572 (B) 752 (C) 725 (D) 257

87. খালী ঠাই পূর্ণ কৰা :

$$\frac{C}{6}, \frac{E}{10}, \frac{G}{14}, \frac{I}{18}, \text{ ———}$$

- (A)  $\frac{P}{22}$  (B)  $\frac{K}{20}$  (C)  $\frac{K}{21}$  (D)  $\frac{K}{22}$

87. শূন্যস্থান পূর্ণ কৰো :

$$\frac{C}{6}, \frac{E}{10}, \frac{G}{14}, \frac{I}{18}, \text{ ———}$$

- (A)  $\frac{P}{22}$  (B)  $\frac{K}{20}$  (C)  $\frac{K}{21}$  (D)  $\frac{K}{22}$

87. लांदां जायगा आबुं खालाम :

$$\frac{C}{6}, \frac{E}{10}, \frac{G}{14}, \frac{I}{18}, \text{ ———}$$

- (A)  $\frac{P}{22}$  (B)  $\frac{K}{20}$  (C)  $\frac{K}{21}$  (D)  $\frac{K}{22}$

87. Fill in the blank :

$$\frac{C}{6}, \frac{E}{10}, \frac{G}{14}, \frac{I}{18}, \text{ ———}$$

- (A)  $\frac{P}{22}$  (B)  $\frac{K}{20}$  (C)  $\frac{K}{21}$  (D)  $\frac{K}{22}$



88. খালী ঠাই পূৰ্ণ কৰা :

\_\_XX\_\_YX\_\_YY\_\_XY\_\_XXY

- (A) XXXYY (B) YXYXY (C) YYXXY (D) YYYXX

88. শূন্যস্থান পূৰ্ণ কৰো :

\_\_XX\_\_YX\_\_YY\_\_XY\_\_XXY

- (A) XXXYY (B) YXYXY (C) YYXXY (D) YYYXX

88. লাঁদাঁ জায়গা আৰুঁ খালাম :

\_\_XX\_\_YX\_\_YY\_\_XY\_\_XXY

- (A) XXXYY (B) YXYXY (C) YYXXY (D) YYYXX

88. Fill in the blanks :

\_\_XX\_\_YX\_\_YY\_\_XY\_\_XXY

- (A) XXXYY (B) YXYXY (C) YYXXY (D) YYYXX

89. খালী ঠাই পূৰ্ণ কৰা :

Doctor : Hospital :: Teacher : \_\_\_\_\_

- (A) School (B) Field (C) Industry (D) Laboratory

89. শূন্যস্থান পূৰ্ণ কৰো :

Doctor : Hospital :: Teacher : \_\_\_\_\_

- (A) School (B) Field (C) Industry (D) Laboratory

89. লাঁদাঁ জায়গা আৰুঁ খালাম :

Doctor : Hospital :: Teacher : \_\_\_\_\_

- (A) School (B) Field (C) Industry (D) Laboratory

89. Fill in the blank :

Doctor : Hospital :: Teacher : \_\_\_\_\_

- (A) School (B) Field (C) Industry (D) Laboratory



90. যদি 5789 সংখ্যাটোৰ সংকেত GKPT হয় আৰু 2436 সংখ্যাটোৰ সংকেত ALUR হয়, তেন্তে 24539 সংখ্যাটোৰ সংকেত কি হ'ব ?
- (A) ALRUT (B) ALGUT (C) ALGTU (D) ALGRT
90. যদি 5789 সংখ্যাটিৰ সংকেত GKPT হয় এবং 2436 সংখ্যাটিৰ সংকেত ALUR হয়, তহলে 24539 সংখ্যাটিৰ সংকেত কী হবে ?
- (A) ALRUT (B) ALGUT (C) ALGTU (D) ALGRT
90. জুদি 5789 অনজিমায়া GKPT নি সংকেত জায়ো আরো 2436 অনজিমায়া ALUR নি সংকেত জায়ো, अब्ला 24539 अनजिमाया मानि संकेत जागोन?
- (A) ALRUT (B) ALGUT (C) ALGTU (D) ALGRT
90. If in a certain code 5789 is written as GKPT and 2436 is written as ALUR, how will 24539 be written in that code?
- (A) ALRUT (B) ALGUT (C) ALGTU (D) ALGRT

91. শুদ্ধ গণিতীয় চিহ্নকেইটা বাছনি কৰা, যাতে তলৰ সম্বন্ধটো শুদ্ধ হয় :

$$6 \ 4 \ 9 \ 15$$

- (A) , , (B) , , (C) , , (D) , ,

91. শুদ্ধ গাণিতিক চিহ্নগুলি নির্বাচন কৰো, যাতে প্রদত্ত সম্বন্ধটি শুদ্ধ হয় :

$$6 \ 4 \ 9 \ 15$$

- (A) , , (B) , , (C) , , (D) , ,

91. गेबें सानखान्थियारि दिन्थिसिनफोरखौ सायख' जाहाथे गाहायनि समानसुआ गेबें जायो :

$$6 \ 4 \ 9 \ 15$$

- (A) , , (B) , , (C) , , (D) , ,

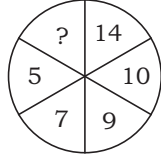
91. Select the correct mathematical signs to balance the given expression :

$$6 \ 4 \ 9 \ 15$$

- (A) , , (B) , , (C) , , (D) , ,

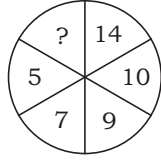


92. তলৰ চিত্ৰটোৰ পৰা হেৰুৱা সংখ্যাটো বাছি উলিওৱা :



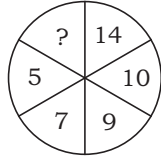
- (A) 2 (B) 11 (C) 4 (D) 18

92. প্ৰদত্ত চিত্ৰটি থেকে বিলুপ্ত সংখ্যাটি নির্বাচন কৰো :



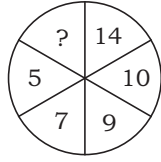
- (A) 2 (B) 11 (C) 4 (D) 18

92. হোনায় সাবগাৰিয়াব গোমানায় অনজিমাখৌ সাযখ' :



- (A) 2 (B) 11 (C) 4 (D) 18

92. Select the missing number in the given diagram :



- (A) 2 (B) 11 (C) 4 (D) 18

93. যদি POLICE ক QOMIDE হিচাবে লিখা হয়, তেন্তে DACOIT ক যি হিচাবে লিখিব লাগিব

- (A) EBDPJU (B) EADTOJ  
(C) EADOJT (D) EBDOJT

93. যদি POLICE-এৰ সংকেত হয় QOMIDE, তবে DACOIT-এৰ সংকেত হবে

- (A) EBDPJU (B) EADTOJ  
(C) EADOJT (D) EBDOJT






93. जुदि POLICE खौ QOMIDE क'डजों फोरमायो, अब्ला DACOIT खौ बबे क'डजों फोरमायनो?


- (A) EBDPJU (B) EADTOJ  
(C) EADOJT (D) EBDOJT

93. If POLICE is coded as QOMIDE, then DACOIT will be coded as

- (A) EBDPJU (B) EADTOJ  
(C) EADOJT (D) EBDOJT

94. एक स्वच्छ पृष्ठात अंकित  टोक यदि विन्दुयुक्त रेखाब सापेक्षे भाँज कबा ह्य, तेन्ते पृष्ठाटो केनेदबे दृश्यामान ह'ब ?

- (A)  (B)  (C)  (D) 


94. एकटि स्वच्छ कागजे अंकित  टिके विन्दुयुक्त रेखाते भाँज करले फलस्वरूप की चित्र पाओया याबे ?

- (A)  (B)  (C)  (D) 

94. गोजोन गुनगोनां बिलाइखौ बिनि फोथागोनां हांखोजों थनोब्ला, बेनि जाखानाय सावगारिआ जागोन



- (A)  (B)  (C)  (D) 

94. If  is drawn on a transparent sheet and folded on the dotted line, then what would be the resulting figure?

- (A)  (B)  (C)  (D) 



95. বম্বাৰ স্কুল পুৱা 10 বজাত আৰম্ভ হয় আৰু স্কুল ছুটিৰ পিছত বিয়লি 4 বজাত তাই সাঁতোৰ পাঠ্যক্রমত অংশগ্ৰহণ কৰে। এই সময়ছোৱাত ঘড়ীৰ ঘণ্টাৰ কাঁটাডালে কিমান ডিগ্ৰী কোণ অতিক্ৰম কৰে ?

- (A)  $60^\circ$  (B)  $120^\circ$  (C)  $180^\circ$  (D)  $135^\circ$

95. বম্বাৰ বিদ্যালয় সকাল 10 ঘটিকায় আৰম্ভ হয় এবং বিদ্যালয় ছুটিৰ পৰ বিকাল 4 ঘটিকায় সে সাঁতোৰেৰ কোৰ্চে অংশগ্ৰহণ কৰে। এই সময়ের মধ্যে ঘণ্টাৰ কাঁটা কত ডিগ্ৰী ঘূৰবে ?

- (A)  $60^\circ$  (B)  $120^\circ$  (C)  $180^\circ$  (D)  $135^\circ$

95. रम्यानि स्कूलआ फुंनि 10 रिंगाआव जागायो आरु स्कूलनि उनाव बियो बेलासिनि 4 रिंगाआव सानसिनाय सोलोहैयो। बे समनि गेजेराव घण्टानि आखाइआ बेसे डिग्री गिदिङ्को?

- (A)  $60^\circ$  (B)  $120^\circ$  (C)  $180^\circ$  (D)  $135^\circ$

95. Ramya's school starts at 10 o'clock in the morning, and after school she attends swimming course at 4 o'clock in the afternoon. By how much degree does the hour hand move during this time?

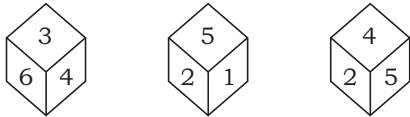
- (A)  $60^\circ$  (B)  $120^\circ$  (C)  $180^\circ$  (D)  $135^\circ$

96. এটা লুডুগুটিৰ তিনিটা বিভিন্ন দিশৰ চিত্ৰ দিয়া হৈছে। তাৰ পৰা লুডুগুটিটোৰ 4 ৰ বিপৰীত স্থানত কি সংখ্যা আছে, নিৰ্ণয় কৰা :



- (A) 1 (B) 3 (C) 6 (D) 5

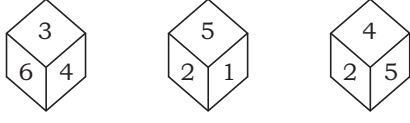
96. একটি লুডুগুটিৰ তিনিটা বিভিন্ন দিকের চিত্ৰ দেওয়া হয়েছে। তাৰ থেকে লুডুগুটিটৰ 4-এৰ বিপৰীত স্থানে কী সংখ্যা আছে, নিৰ্ণয় কৰো :



- (A) 1 (B) 3 (C) 6 (D) 5

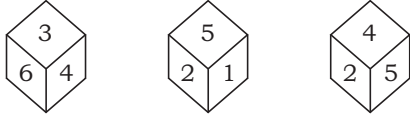


96. मोनसे डाइसनि मोनथाम गुबुन गुबुन दिगनि सावगारि होनाय जादों। बेनिक्राय डाइसनि 4 नि उल्था फारसे मा अनजिमा दं दिहुन :



- (A) 1 (B) 3 (C) 6 (D) 5

96. Three positions of a dice are given. Find out which number is found opposite to the number 4 in the given dice :



- (A) 1 (B) 3 (C) 6 (D) 5

97. তলত দিয়া সম্পর্কৰ বাবে উপযুক্ত আখৰকেইটা বাছি উলিওৱা :

ABC : UVW :: DEF : \_\_\_\_\_

- (A) XYZ (B) MNP (C) POR (D) GHR

97. নিম্নোক্ত সম্পর্কের জন্য উপযুক্ত অক্ষরগুলি নির্বাচন করো :

ABC : UVW :: DEF : \_\_\_\_\_

- (A) XYZ (B) MNP (C) POR (D) GHR

97. गाहायाव होनाय सोमोन्दोफोरनि थाखाय आरजाथाव हांखोफोरख्रौ सायख'ना दिहुन :

ABC : UVW :: DEF : \_\_\_\_\_

- (A) XYZ (B) MNP (C) POR (D) GHR

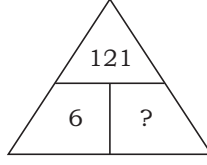
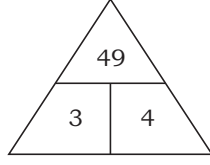
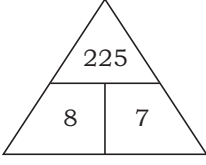
97. Select the related letters from the following :

ABC : UVW :: DEF : \_\_\_\_\_

- (A) XYZ (B) MNP (C) POR (D) GHR



98. তলত দিয়া চিত্ৰবোৰৰ পৰা হেৰুৱা সংখ্যাটো বাছি উলিওৱা :



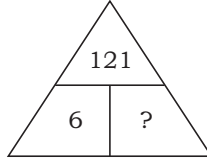
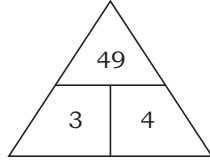
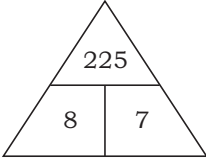
(A) 4

(B) 21

(C) 20

(D) 5

98. প্ৰদত্ত চিত্ৰগুলি থেকে বিলুপ্ত সংখ্যাটি বেছে বের কৰো :



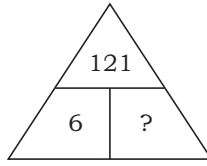
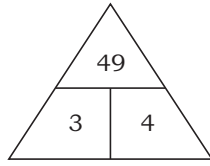
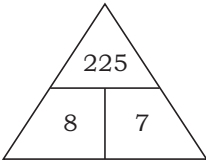
(A) 4

(B) 21

(C) 20

(D) 5

98. হোনায সাবগাৰিফোৰনি গেজেৰনিফ্ৰায় গোমানায় অনজিমাখৌ সাযখ' :



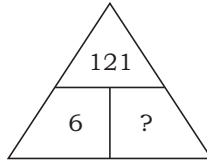
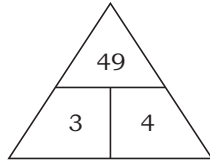
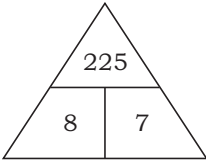
(A) 4

(B) 21

(C) 20

(D) 5

98. Select the missing number in the given diagrams :



(A) 4

(B) 21

(C) 20

(D) 5

99. তলৰ শৃংখলাটোৰ প্ৰশ্নবোধক ঠাইত উপযুক্ত সংখ্যাটো বিচাৰি উলিওৱা :

8, 24, 12, ?, 18, 54

(A) 18

(B) 36

(C) 46

(D) 38

99. নিম্নলিখিত শৃংখলাটিতে প্ৰশ্নবোধক (?) স্থানে উপযুক্ত সংখ্যাটি খুঁজে বের কৰো :

8, 24, 12, ?, 18, 54

(A) 18

(B) 36

(C) 46

(D) 38



99. गाहायाव होनाय फारियाव गोमानाय अनजिमाखौ सायख' :

8, 24, 12, ?, 18, 54

(A) 18

(B) 36

(C) 46

(D) 38

99. In the following series, select the missing number :

8, 24, 12, ?, 18, 54

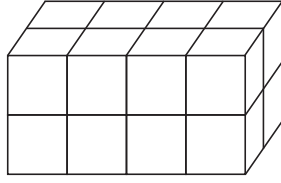
(A) 18

(B) 36

(C) 46

(D) 38

100. किमानटा घनक अदृश्य है आछे ?



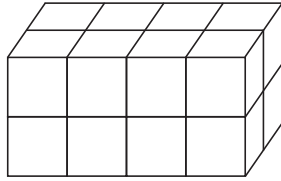
(A) 5

(B) 4

(C) 3

(D) 2

100. कतगुलि घनक अदृश्य हयै आछे ?



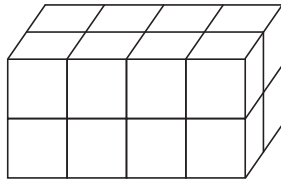
(A) 5

(B) 4

(C) 3

(D) 2

100. मोन बेसेबां घनक नुयि जानानै दं ?



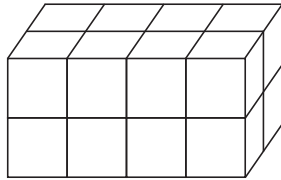
(A) 5

(B) 4

(C) 3

(D) 2

100. How many cubes are unseen?



(A) 5

(B) 4

(C) 3

(D) 2



**SPACE FOR ROUGH WORK**



**SPACE FOR ROUGH WORK**



**SPACE FOR ROUGH WORK**

★ ★ ★

